

小学^{しょうがく}1~3年生^{ねんせい}の 算数^{さんすう}パズル王国^{おうこく} ジュニア

第113回^{だい} さくらんぼパズル^{かい}

王^{おう}さまたちは「さくらんぼパズル」をしています。

ルールに したがって、2つの ○ を つなぐ せんを かきましょう。

もんだい¹

ルール

- ① すべての ○ を 2つずつ、たて・よこの せんで つなぎます。
- ② 2つの ○ を つなぐ せんは、かならず 1かいだけ まがります。
- ③ せんでうしが ぶつかったり まじわったり しては いけません。
- ④ せんで つないだ 2つの ○ に かいてある かずの こうけいが、どれも おなじになるように ……を なぞります。

れい せんで つないだ 2つの ○ の かずが あわせて 6になるように ……を なぞりましょう。

この ②と ④を つなぐと せんが まじわってしまうから あてはまらないよ。

2かい まがっては いけないよ。

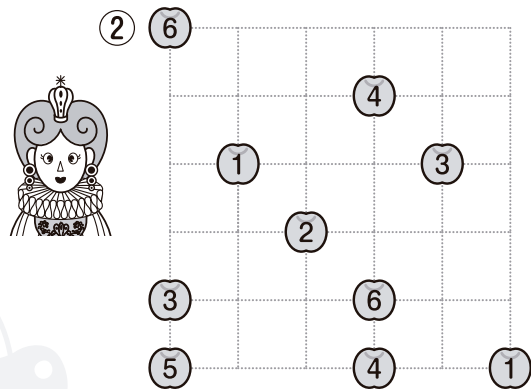
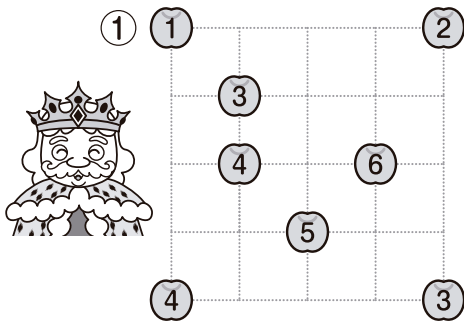
あわせて 6になるのは、
①と⑤、②と④、③と③だね。

おうさま
王様からひとこと

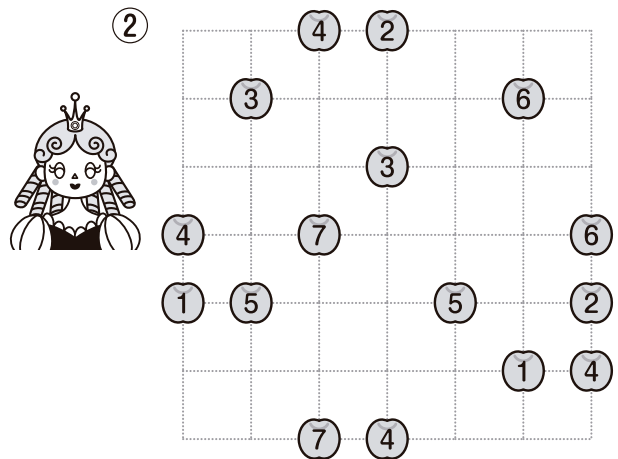

今回は配置された数を組み合わせる問題にチャレンジしましょう。
 もんだい②では曲がり方に注意しましょう。



(1) せんで つないだ 2つの ○の かずが あわせて 7に
 なるように ……を なぞりましょう。



(2) せんで つないだ 2つの ○の かずが あわせて 8に
 なるように ……を なぞりましょう。

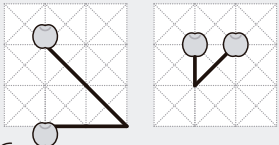


もんだい 2

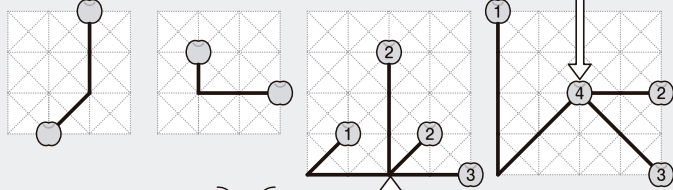
ルール

- ① すべての ○ を 2つずつ、たて・よこ・ななめの せんの どれかで つなぎます。
- ② 2つの ○ を つなぐ せんは、かならず 1かいだけ 下の ずのように まがります。
- ③ せんどうしが ぶつかったり まじわったり ほかの ○ を とおったり しては いけません。
- ④ せんで つないだ 2つの ○ に かいてある かずの ごうけいが、どれも おなじになるように …… を なぞります。


ただ 正しい つなぎかた



ただ 正しくない つなぎかた



②と ③を つなぐ ときに、
④を とおっているね。



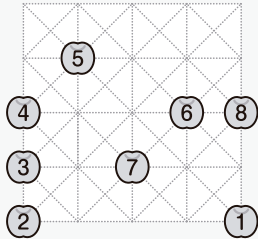
ちよっかく はんぶん
直角の 半分の
おお
大きさに
まがるんだね。





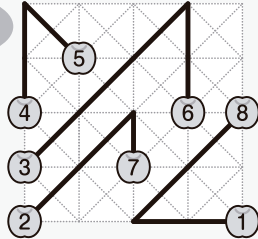
せんどうしが
ぶつかっているね。

(1) せんで つないだ 2つの ○ の かずが あわせて 9に
なるように …… を なぞりましょう。




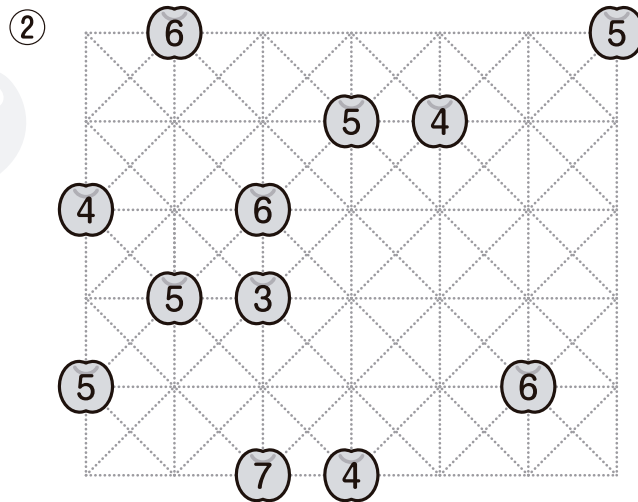
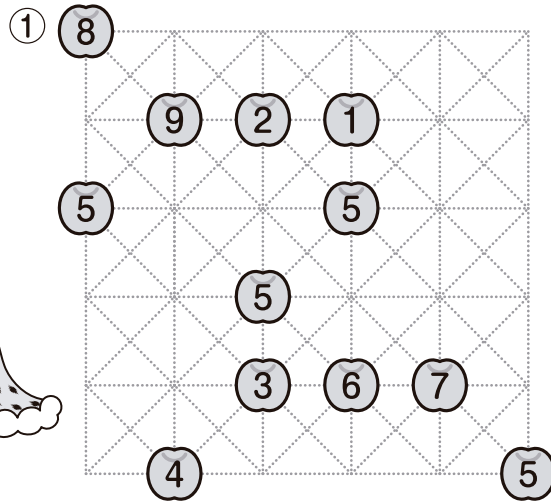

れい



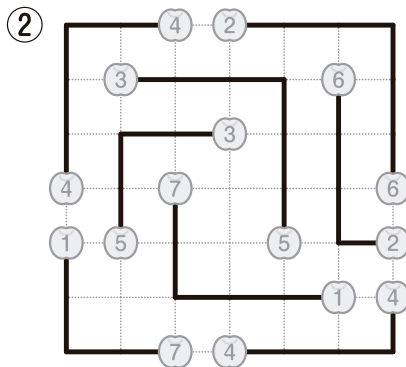
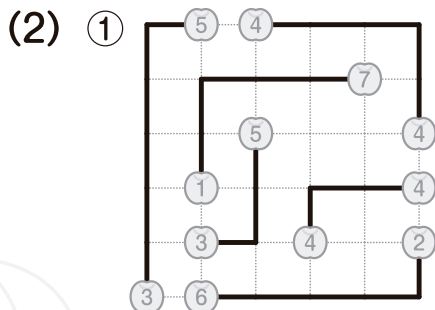
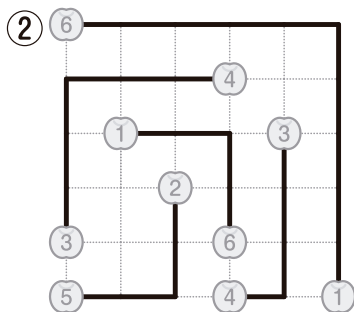
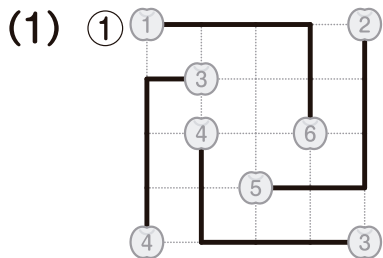
こたえ



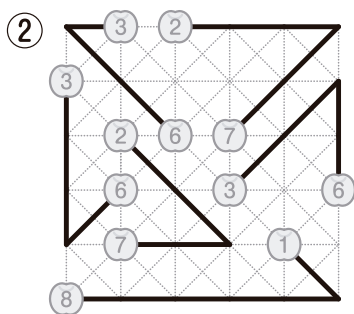
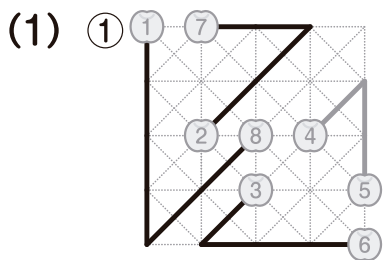
(2) せんで つないだ 2つの ○の かすが あわせて 10になるようにを なぞりましょう。



もんだい **1**



もんだい **2**



できたかな?

