

算数大好き小学生の 算数パズル王国

第120回 猪突猛进

2019年は、いのしし年です。いのししは、まっすぐ前につき進む動物です。
 今、何頭かのいのしし(●●●●)がたて・横にならんでいます。
 ●●●●の数字は、それぞれのいのししの向いている先に、何種類の数字があるかを表しています。すべての●●●●に当てはまる数字を書きましょう。

この2の先には
2, 1, 2があるね。
1, 2の2種類だから
2なんだね。

この4の先には
4, 1, 2, 3があるね。
1, 2, 3, 4の4種類だから
4なんだね。

れい

これらの先にはいのししが
1頭だけだから、1と決まるね。

これが3だということは、その
左の3つのいのししには、
1, 2, 3の3種類の数字が
1つずつ入るんだね。3は左か
右のはしにしか入らないよ。

いのししは横に4頭しか
ならんでいないから、
4はどこにも入らないよ。
1, 2, 3の3種類の数字が
入るね。

このいのししの先には
1, 3の2種類の数字が
あるから、2になるね。

こた
答え

おうさま 王様からひとこと

明けましておめでとうございます。2019年も算数パズルで楽しく考える練習をしていきましょう。今回も数字の配置を考えるパズルです。まずは、1が入ると決まるいのししを見つけましょう。



もんだい

ヒント


ホップ (1) では、いちばん 下の 段から 考えましょう。
 ステップ (1) では、いちばん 下の 段の 左はしは 4と 決まります。
 ジャンプでは、下から 2段目から 考えましょう。

ヒントは かんたん。
 家族の 人たちも、
 いっしょに やってみてね。


ホップ

対象学年
1年～6年

(1)




(2)




ステップ

対象学年
2年～6年

(1)



(2)



ジャンプ

対象学年
3年～6年

(1)



