

# 算数大好き小学生の 算数パズル王国

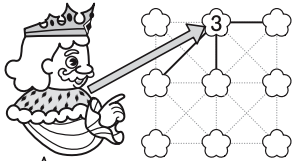
## 第122回 梅の花パズル

王さまたちは **ルール** に したがって、「梅の花パズル」を しています。


### ルール

- ① たて・横・ななめの 線を なぞって、 と を つないでいきます。
- ② に 書いてある 数字は、その から 線で つながっている の 数です。
- ③ つないだ ななめの 線 どうしが 交わっては いけません。

例えば、 の つなぎ方は 次のように なります。

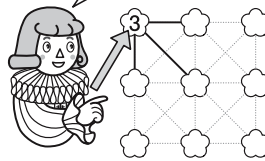


この は、線で 5つの と つながっているね。その うちの 3つと つながるよ。

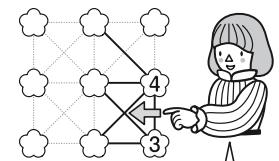


中央の は、線で 8つの と つながっているわね。その うちの 3つと つながるわ。

すみの は、この つなぎ方しか ないね。



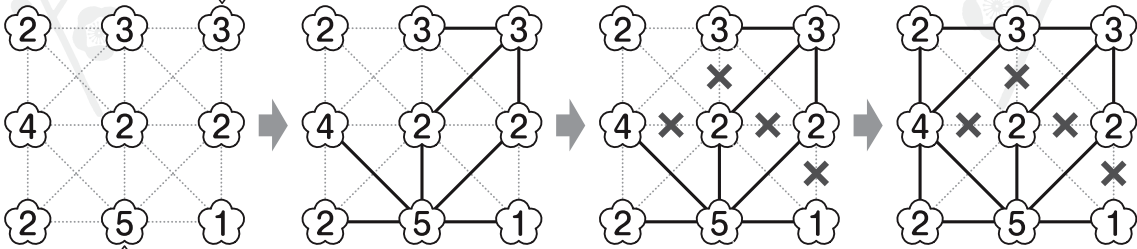
ただ、正しくない つなぎ方



このように つないだ 線 どうしが 交わっては いけないよ。

**れい** **ルール** に したがって 線を なぞりましょう。

すみに ある は つなぎ方が 決まるね。



この も つなぎ方は 1通りに 決まるね。

つながないと 決まる 線に Xを かいたよ。

### 王様からひとこと

今回はつなぎ方を考えるパズルです。線のつなぎ方が 1通りに決まる を 見つけていきましょう。線と線が交差してはいけないことに注意しましょう。



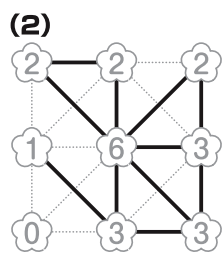
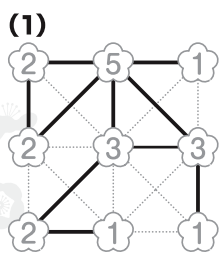


さん すう おう こく  
算数パズル王国

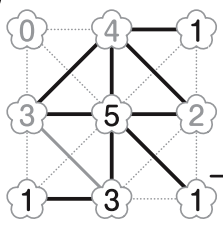
こた  
答え

さあ こた を 答え 合わせ を しよう。


ホップ



ジャンプ



できたかな?



順番不同

ステップ

