

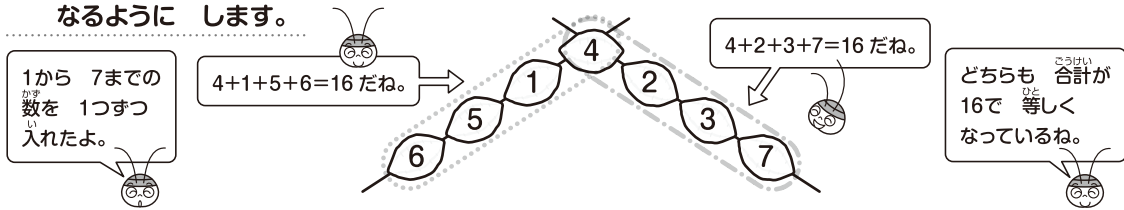
算数大好き小学生の 算数パズル王国

第140回 ジグザグおイモ数入れ

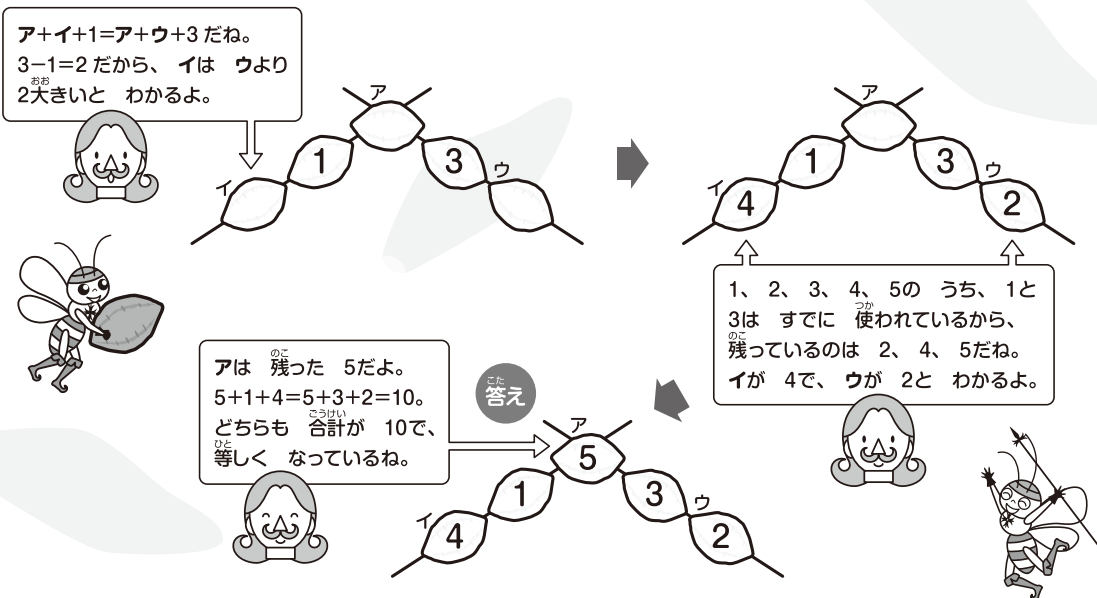
おさまたちが「ジグザグおイモ数入れパズル」をしています。
ルールにしたがって、○に当てはまる数を入れましょう。

ルール

- ① ○にはちがう数を1つずつ入れます。
- ② 同じ線の上にある○に書いてある数の合計が、どの線を見ても等しくなるようにします。



れい 1から5までの数を、○に1つずつ入れましょう。



おさま 王様からひとこと

今回は数入れパズルにチャレンジしましょう。同じ線の上にある4つの○の合計は等しいことから、違う線の上にある○の差がいくつになるかを考えていきましょう。



もんだい

ヒント

ホップ(1)では、1から7までの合計が28であることから、2本の
 一が交わる○に入る数は偶数が奇数か考えましょう。
 ステップでは、★と☆の数の差から考えましょう。
 ジャンプでは、★と☆に入る数から考えましょう。


ルールはかんたん。
 家族の人たちも、
 いっしょにやってみてね。

ホップ


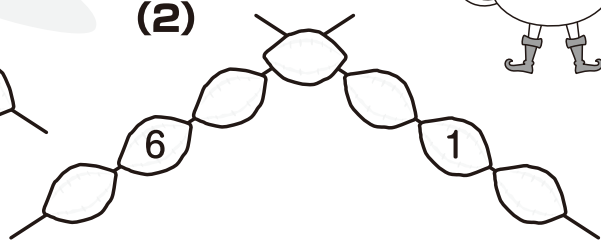
対象学年
1年~6年

1から7までの数を、○に1つずつ入れましょう。

(1)




(2)



ステップ

対象学年
2年~6年

1から15までの数から選んだ13この数を、○に1つずつ入れましょう。




ジャンプ



対象学年
3年~6年

1から15までの数から選んだ13この数を、○に1つずつ入れましょう。

※ア、イ、ウ、エ、オに入る数は、ア<イ<ウ<エ<オの順に、1ずつ大きくなっています。



同じ線の上にある
 4つの数の合計は、
 どれも30だよ。

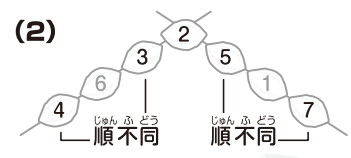
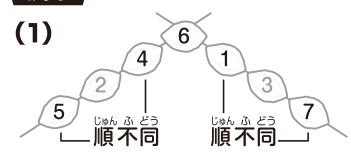


さん すう おう こく
算数パズル王国

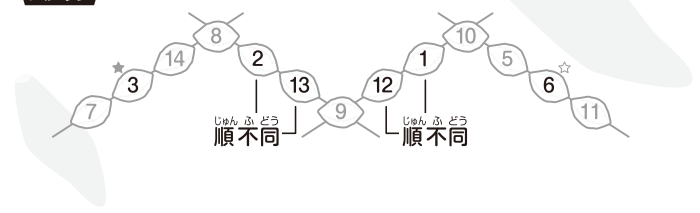
こた 答え

さあ 答え合わせを しよう。

ホップ



ステップ



ジャンプ

