



しょうがく 1~3ねんせい の  
 さん すう おう こく  
**算数パズル王国** ジュニア

第146回 ホワイトデーのおかし つめあわせ


みんなは バレンタインデーのおかえしにするおかしをふくろにつめています。どのふくろも、<sup>なか</sup>中のおかしのおもさのこうけいがおなじになるようにします。おかしは<sup>だい</sup>大・<sup>ちゅう</sup>中・<sup>しょう</sup>小の3しゅるいがそれぞれたくさんあります。おなじしゅるいのおかしはどれもおなじおもさです。




**もんだい**  **1** おしろのパティシエが、**1・2・3**のどのふくろもおなじおもさになるように、おかしをつめました。

 もパティシエがつめたふくろとおなじおもさになるちがうくみあわせをかんがえました。○にはあてはまるかずをかき、□には、<sup>だい</sup>大・<sup>ちゅう</sup>中・<sup>しょう</sup>小のどのおかしがあてはまるかをかきましょう。

**れい**

ふくろ  
そのもの  
おもさは  
かんがえないよ。




**1**  = **2**  = **3** 

**1**と**2**のなかみをくらべるよ。大**1**には小**3**ことおなじおもさだね。だから、1ふくろのおかしのおもさは、小**6**こぶんになるね。

そうすると**3**のふくろから、中**1**には小**2**ことおなじおもさだとわかるね。

**1・2・3**とはちがうくみあわせで、3こ入りと4こ入りのふくろをつつたよ。



こたえ

大

中

小



中

中

小

小

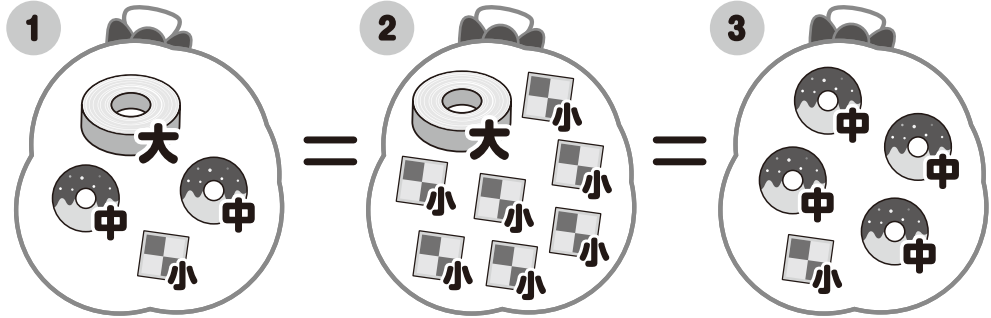


**もんだい 2**  こんどは  が、パティシエが つめた  
ふくろと おなじ おもさになる ちがう くみあわせを  
かんがえました。□にあてはまる おかしは 大・中・小の  
どれか かきましょう。

(1)




1・2・3を  
かんがえたよ。



□ □ □

□ □ □ □ □ □

(2)



□ □ □ □

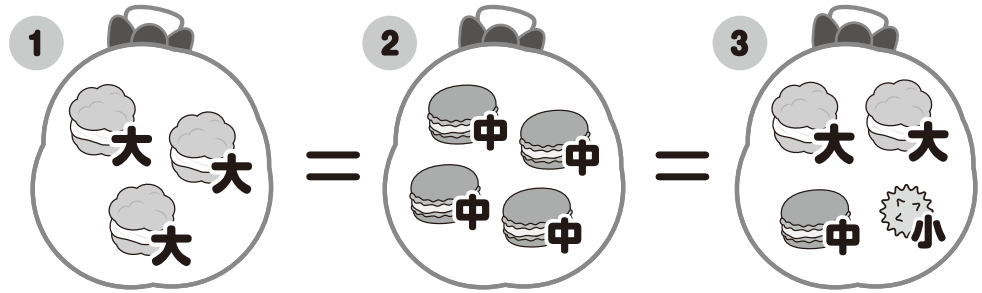
大 □ □ □ □

中 □ □ □ □


パティシエが かんがえた  
1・2・3と おなじ  
くみあわせに なっては  
いけないよ。□は  
あまらないよ。



(3)



1と3の なかみを くらべてみよう。  
 大1こと おなじ おもさになる  
 ほかの おかしの くみあわせは？





<input type="checkbox"/>	<input type="checkbox"/>	<input type="checkbox"/>	<input type="checkbox"/>	<input type="checkbox"/>
--------------------------	--------------------------	--------------------------	--------------------------	--------------------------

大	<input type="checkbox"/>	<input type="checkbox"/>	<input type="checkbox"/>	<input type="checkbox"/>	<input type="checkbox"/>
---	--------------------------	--------------------------	--------------------------	--------------------------	--------------------------

中	<input type="checkbox"/>	<input type="checkbox"/>	<input type="checkbox"/>	<input type="checkbox"/>	<input type="checkbox"/>
---	--------------------------	--------------------------	--------------------------	--------------------------	--------------------------

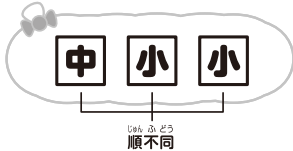
<input type="checkbox"/>	<input type="checkbox"/>	<input type="checkbox"/>	<input type="checkbox"/>	<input type="checkbox"/>	<input type="checkbox"/>	<input type="checkbox"/>
--------------------------	--------------------------	--------------------------	--------------------------	--------------------------	--------------------------	--------------------------



算数パズル王国 **シユア** こたえ さあ こたえあわせを しよう。

もんだい **1**

(1)



1と2の なかみを くらべるよ。

中1こは 小 **2** こと おなじ

おもさだね。

(2)

1と2の なかみを くらべるよ。

中1こは 小 **2** こと おなじ


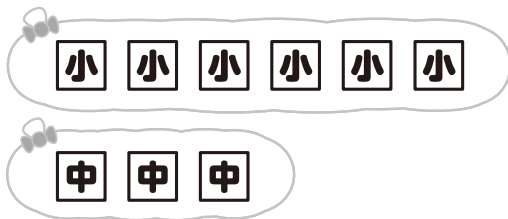
おもさだね。

1と3の なかみを くらべるよ。

大1こは 中 **2** こと おなじ

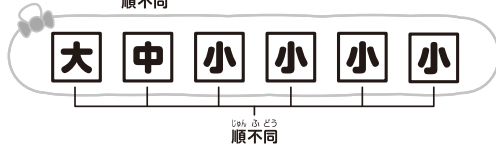
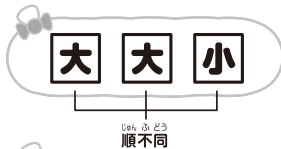
おもさだね。

6こ入りと 3こ入りの ふくろを つくったよ。

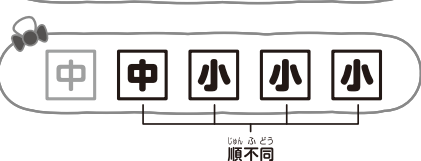


もんだい **2**

(1)



(2)



(3)

