

# 算数大好き小学生の 算数パズル王国

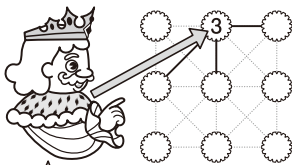
## 第158回 たんぽぽパズル

おうさまたちは **ルール** に したがって、「たんぽぽパズル」を しています。


### ルール

- ① たて・横・ななめの 線を なぞって、○と○をつないでいきます。
- ② ○に 書いてある 数字は、その○から 線で つながっている ○の 数です。
- ③ つないだ ななめの 線 どうしが 交わっては いけません。


例えば、○3の つなぎ方は 次のように なります。



この○3は、線で 5つの ○と つながっているね。そのうちの 3つと つながるよ。




中央の○3は、線で 8つの ○と つながっているわね。そのうちの 3つと つながるわ。



すみの○3は、この つなぎ方しか ないね。

たぶん 正しくない つなぎ方



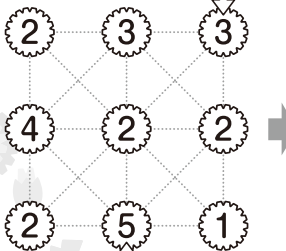
このように つないだ 線 どうしが 交わっては いけないよ。

### れい

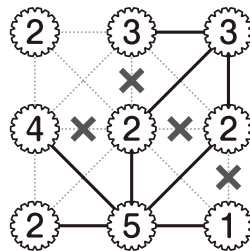
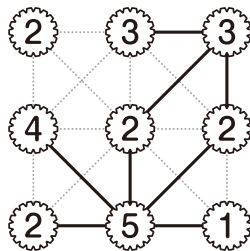
**ルール** に したがって 線を なぞり、つなぎ方を かきましょう。また、本 には つないだ 線の 本数を 書きましょう。

すみに ある ○3は つなぎ方が きまるね。

つながらないと きまる 線に ×を かいたよ。

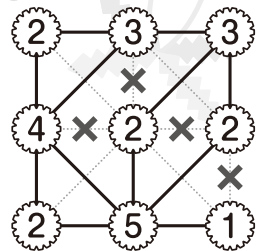


この○5も つなぎ方は 1通りに きまるね。



○に 書いてある 数字の 合計は 24だから、 つないだ 線の 本数の 合計は 12本だね。

答え



12 本

### おうさま 王様からひとこと

今回は線のつなぎ方を考えるパズルです。つなぎ方が1通りに決まる○を見つけていきましょう。線どうしが交差してはいけないことから、つなぎ方を絞っていくことができます。






さん すう おう こく  
算数パズル王国

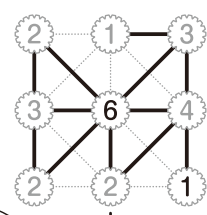
**答え** さあ 答え合わせを しよう。

**ホップ** (1)

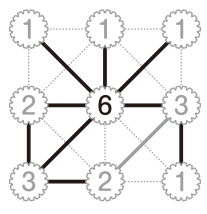


(2)

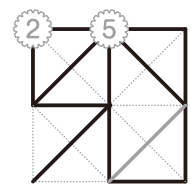
**ジャンプ**



**ステップ** (1)



(2)



できたかな?

じゅん ぶどう  
順不同

