

小学1~3年生の 算数パズル王国 ジュニア

第158回 春の花だんづくり

おしろでは 花だんづくりを しています。

ルール

- ① 花を入れた はこを ならべて 花だんをつくります。
- ② どの はこにも きめた いろの 花を 1つずつ 入れます。
- ③ はこを ならべたときに、たて・よこの どの れつを 見ても おなじ いろの 花が ならないように します。

もんだい 1 4色(あか・しろ・きいろ・むらさき)のチューリップ(🌷)を4つのはこに入れて ならべます。あかを1、しろを2、きいろを3、むらさきを4として、🌷にあてはまるすうじを かきましょう。


れい

🌷が どこか わからないのは イとウのはこだね。イのはこで、アとエのはこの🌷とおなじ たて・よこの れつの 花は 1ではないはずだから、🌷の ばしょがわかるね。おなじように かんがえると、ウのはこの🌷の ばしょも わかるね。

































































































こたえ

おうさま
王様がさしこむ

今回は数字の配列を考える問題です。入る数字が確実に決まる🌷・🌻からうめていきましょう。

もんだい  **2** 6色(あか・しろ・きいろ・むらさき・ピンク・オレンジ)のガーベラ()を6つのはこに入れてならべます。
あかを1、しろを2、きいろを3、むらさきを4、ピンクを5、オレンジを6として、 にあてはまるすうじをかきましょう。






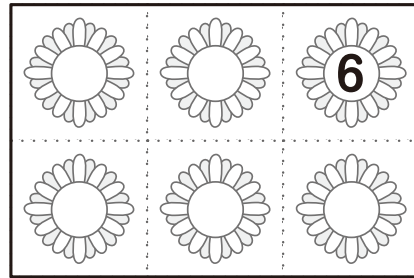



(1)

| | | | | | | | | | | | | | | | | | | | | |
|---|---|---|---|---|---|---|---|---|---|---|---|---|---|--|--|---|--|---|--|---|
| <table border="1" style="border-collapse: collapse; width: 100%; height: 100%;"> <tr><td style="width: 50%; height: 33%;"></td><td style="width: 50%; height: 33%;"></td></tr> <tr><td style="width: 50%; height: 33%;"></td><td style="width: 50%; height: 33%;"></td></tr> <tr><td style="width: 50%; height: 33%;"></td><td style="width: 50%; height: 33%;"></td></tr> </table> |  |  |  |  |  |  | <table border="1" style="border-collapse: collapse; width: 100%; height: 100%;"> <tr><td style="width: 50%; height: 33%;"></td><td style="width: 50%; height: 33%;"></td></tr> <tr><td style="width: 50%; height: 33%;"></td><td style="width: 50%; height: 33%;"></td></tr> <tr><td style="width: 50%; height: 33%;"></td><td style="width: 50%; height: 33%;"></td></tr> </table> |  |  |  |  |  |  | <table border="1" style="border-collapse: collapse; width: 100%; height: 100%;"> <tr><td style="width: 50%; height: 33%;"></td><td style="width: 50%; height: 33%;"></td></tr> <tr><td style="width: 50%; height: 33%;"></td><td style="width: 50%; height: 33%;"></td></tr> <tr><td style="width: 50%; height: 33%;"></td><td style="width: 50%; height: 33%;"></td></tr> </table> |  |  |  |  |  |  |
|  |  | | | | | | | | | | | | | | | | | | | |
|  |  | | | | | | | | | | | | | | | | | | | |
|  |  | | | | | | | | | | | | | | | | | | | |
|  |  | | | | | | | | | | | | | | | | | | | |
|  |  | | | | | | | | | | | | | | | | | | | |
|  |  | | | | | | | | | | | | | | | | | | | |
|  |  | | | | | | | | | | | | | | | | | | | |
|  |  | | | | | | | | | | | | | | | | | | | |
|  |  | | | | | | | | | | | | | | | | | | | |
| <table border="1" style="border-collapse: collapse; width: 100%; height: 100%;"> <tr><td style="width: 50%; height: 33%;"></td><td style="width: 50%; height: 33%;"></td></tr> <tr><td style="width: 50%; height: 33%;"></td><td style="width: 50%; height: 33%;"></td></tr> <tr><td style="width: 50%; height: 33%;"></td><td style="width: 50%; height: 33%;"></td></tr> </table> |  |  |  |  |  |  | <table border="1" style="border-collapse: collapse; width: 100%; height: 100%;"> <tr><td style="width: 50%; height: 33%;"></td><td style="width: 50%; height: 33%;"></td></tr> <tr><td style="width: 50%; height: 33%;"></td><td style="width: 50%; height: 33%;"></td></tr> <tr><td style="width: 50%; height: 33%;"></td><td style="width: 50%; height: 33%;"></td></tr> </table> |  |  |  |  |  |  | <table border="1" style="border-collapse: collapse; width: 100%; height: 100%;"> <tr><td style="width: 50%; height: 33%;"></td><td style="width: 50%; height: 33%;"></td></tr> <tr><td style="width: 50%; height: 33%;"></td><td style="width: 50%; height: 33%;"></td></tr> <tr><td style="width: 50%; height: 33%;"></td><td style="width: 50%; height: 33%;"></td></tr> </table> |  |  | | | | |
|  |  | | | | | | | | | | | | | | | | | | | |
|  |  | | | | | | | | | | | | | | | | | | | |
|  |  | | | | | | | | | | | | | | | | | | | |
|  |  | | | | | | | | | | | | | | | | | | | |
|  |  | | | | | | | | | | | | | | | | | | | |
|  |  | | | | | | | | | | | | | | | | | | | |
|  |  | | | | | | | | | | | | | | | | | | | |
| | | | | | | | | | | | | | | | | | | | | |
| | | | | | | | | | | | | | | | | | | | | |

はじめに  か  か  が
どこに はい 入るか かんがえると いいわよ。



(2)



もんだい 1

(1)

| | | | |
|---|---|---|---|
| 3 | 2 | 4 | 1 |
| 4 | 1 | 3 | 2 |

| | | | |
|---|---|---|---|
| 1 | 3 | 2 | 4 |
| 2 | 4 | 1 | 3 |

(2)

| | | | |
|---|---|---|---|
| 2 | 3 | 4 | 1 |
| 4 | 1 | 2 | 3 |

| | | | |
|---|---|---|---|
| 4 | 3 | 2 | 1 |
| 2 | 1 | 4 | 3 |

もんだい 2

(1)

| | | | | | |
|---|---|---|---|---|---|
| 5 | 3 | 6 | 1 | 2 | 4 |
| 4 | 6 | 2 | 3 | 1 | 5 |
| 1 | 2 | 4 | 5 | 3 | 6 |

| | | | | | |
|---|---|---|---|---|---|
| 2 | 4 | 1 | 6 | 5 | 3 |
| 6 | 5 | 3 | 2 | 4 | 1 |
| 3 | 1 | 5 | 4 | 6 | 2 |

(2)

| | | | | | |
|---|---|---|---|---|---|
| 3 | 2 | 1 | 5 | 6 | 4 |
| 4 | 6 | 5 | 2 | 1 | 3 |

| | | | | | |
|---|---|---|---|---|---|
| 2 | 5 | 3 | 1 | 4 | 6 |
| 1 | 4 | 6 | 3 | 2 | 5 |

| | | | | | |
|---|---|---|---|---|---|
| 5 | 1 | 4 | 6 | 3 | 2 |
| 6 | 3 | 2 | 4 | 5 | 1 |

