

# 小学1~3年生の 算数パズル王国 ジュニア

## 第170回 はるの花をつみながら

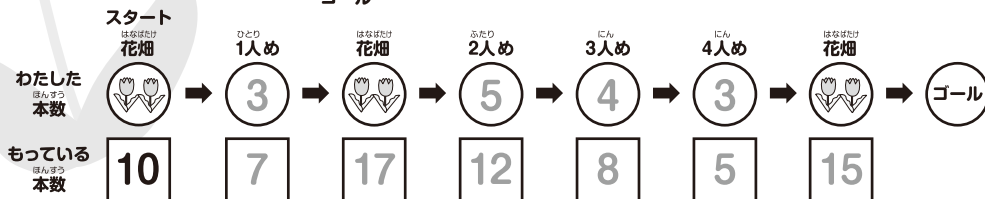
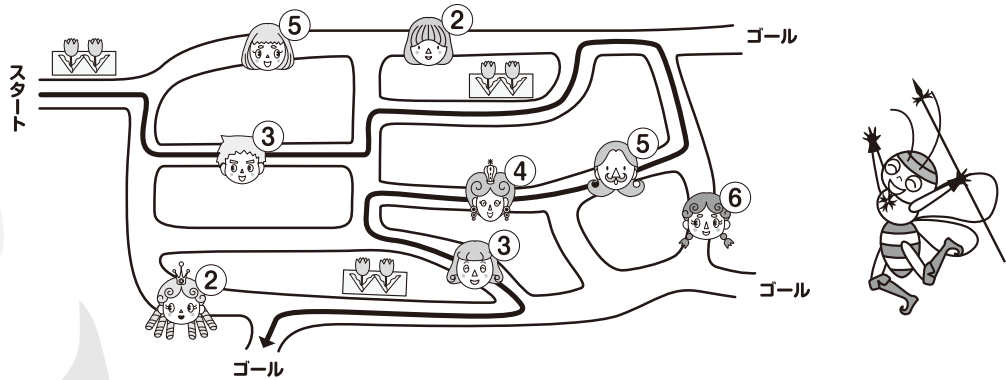
が 花をつみながらさんぽをしています。どのみちをとったのかな。

### ルール

- ① はスタートで花を10本つんで、3つあるゴールのうちのどれかまですすみます。
- ② おなじみちを2かいとおってはいけません。
- ③ みちで人にあつたら花をあげます。○にかいてある数字があげる本数です。
- ④ 花畑(🌻)のよこのみちをとるときは、かならず10本花をつみます。
- ⑤ もっている花よりあげる花のほうがおおくならないようにすすみます。

**もんだい** **1** は → のようにすすみました。○や□にあてはまる数をかきましょう。

### れい



10本もっていて、3本あげたから7本になったよ。

花畑で10本つんだから、あわせて17本になったよ。

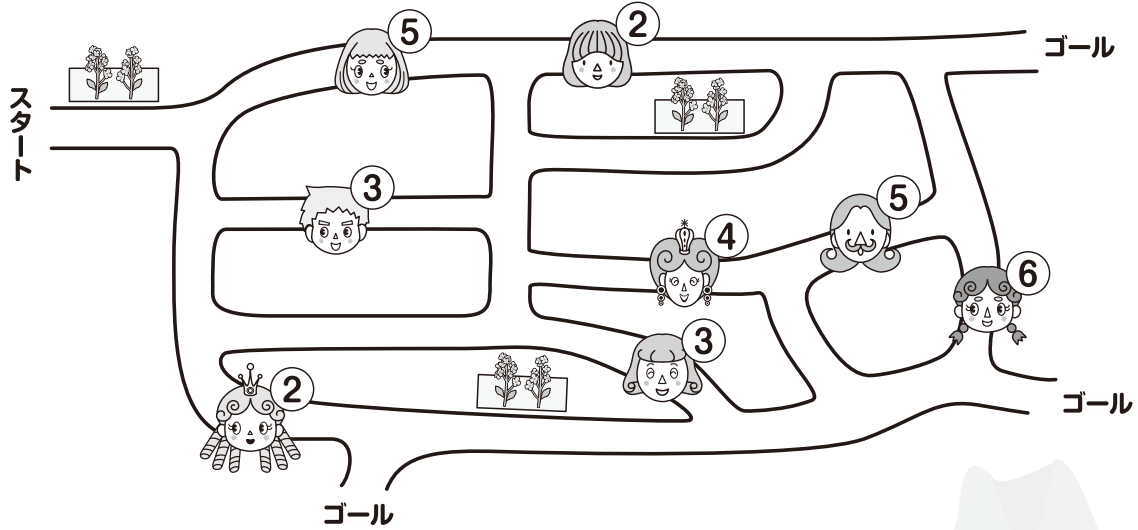


もんだい<sup>2</sup>

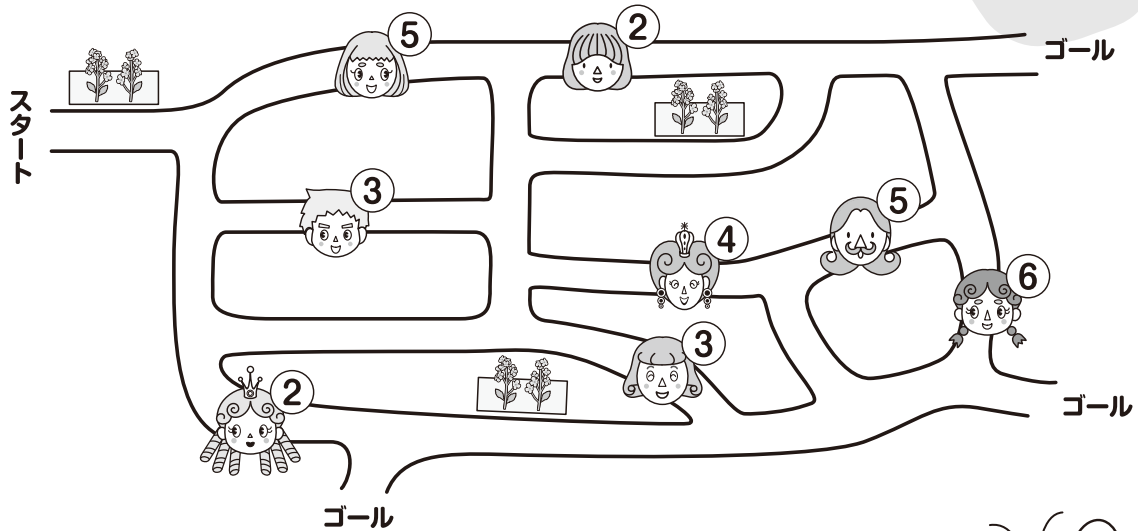
は どのように すすんだのかな。  
すすみかたが わかるように を かき、 や に あては



(2) さいごは 0本<sup>ほん</sup>になりました。2とおりの すすみかたを みつけましょう。



	スタート はなばたけ 花畑	ひとり 1人め	ふたり 2人め	にん 3人め	ゴール
わたした ほんすう 本数		<input type="text"/>	<input type="text"/>	<input type="text"/>	<input type="text"/>
もっている ほんすう 本数	10	<input type="text"/>	<input type="text"/>	0	



	スタート はなばたけ 花畑	ひとり 1人め	ふたり 2人め	にん 3人め	ゴール
わたした ほんすう 本数		<input type="text"/>	<input type="text"/>	<input type="text"/>	<input type="text"/>
もっている ほんすう 本数	10	<input type="text"/>	<input type="text"/>	0	

