

しょう がく ねん せい 小学1~3年生の さん すう おう こく 算数パズル王国 ジュニア

だい 174 かい 第174回 すなはまで たからさがし

おう
王さまたちは すなはまで 「たからさがし大会」を しました。

たからさがしの ルール

- ① すなはまに はた(🚩)を なん ほん た 何本か 立てます。その うちの 1本の 下に たからもの(👑・👑・👑・👑)を うめます。
- ② 「たからの ちず」と みんなの はなしから、たからものが うまっている 🚩を み 見つけます。

れい うでわ(👑)が うまっている 🚩を み 見つけて、その 🚩の きごうを か 書きましょう。

- ① 🚩は **あ**から 6mは はなれていません。
- ② 🚩は **い**から 2mより とおくに ありますが、4mは はなれていません。



「2mより ちかい」「2mより とおい」と いった ときは、2mちょうどは ふくまないよ。



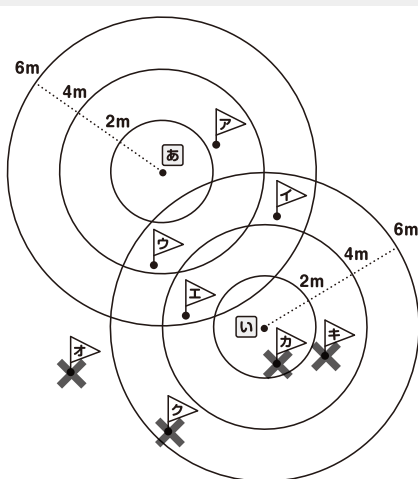
mは 「メートル」と よむよ。こ どもが 2歩 あるくと だいたい 1m すずむよ。



えん 円の うちがわは、どこでも **あ**から 2mより ちかいよ。

はいいろの ふぶんは、どこでも **あ**から 2mより とおくて、4mより ちかいよ。

「たからの ちず」



①の はなしで、**あ**から 6mより とおい オカキクは ちがうと わかるね。×を つけよう。



②の はなしで、👑が あるのは **い**か **き**と わかるね。 **き**には ×を つけたから、**い**の 下に うまっているんだね。



が あるのは

い

おうさま

王様からひとこと

今回は、位置を考える問題です。円周上の点はどこでも、その円の中心からの距離が同じことを確認しましょう。

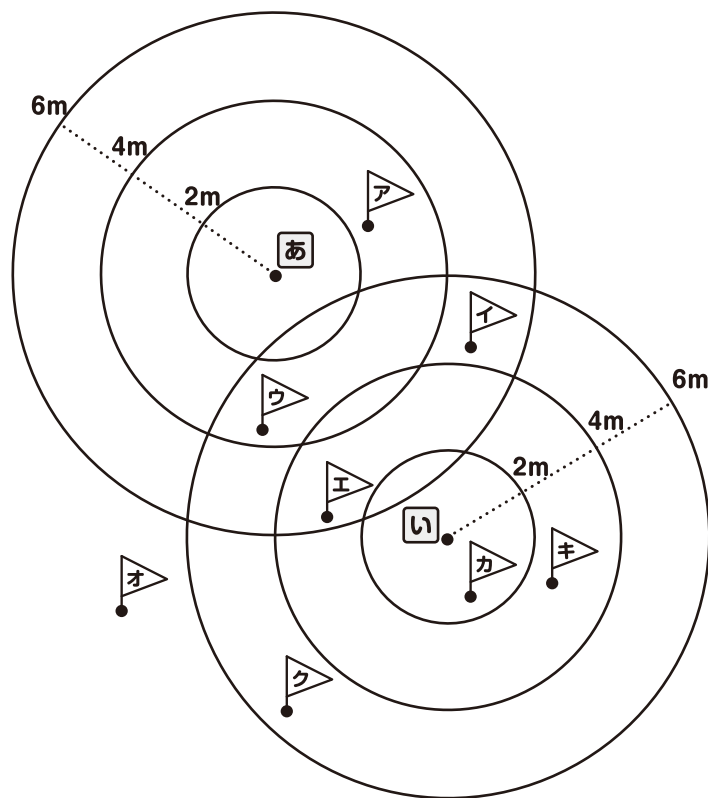


(1) かんむり(王冠)が うまっている 旗を 見つけて、その 旗の きごうを 書きましょう。




- ① 王冠は **あ** から 6mより とおくに あります。
- ② 王冠は **い** から 4mより とおくに ありますが、6mは はなれていません。






「たからの ちず」






王冠があるのは

(2) きんか()が うまっている  を 見つけて、その  の きごうを 書きましょう。

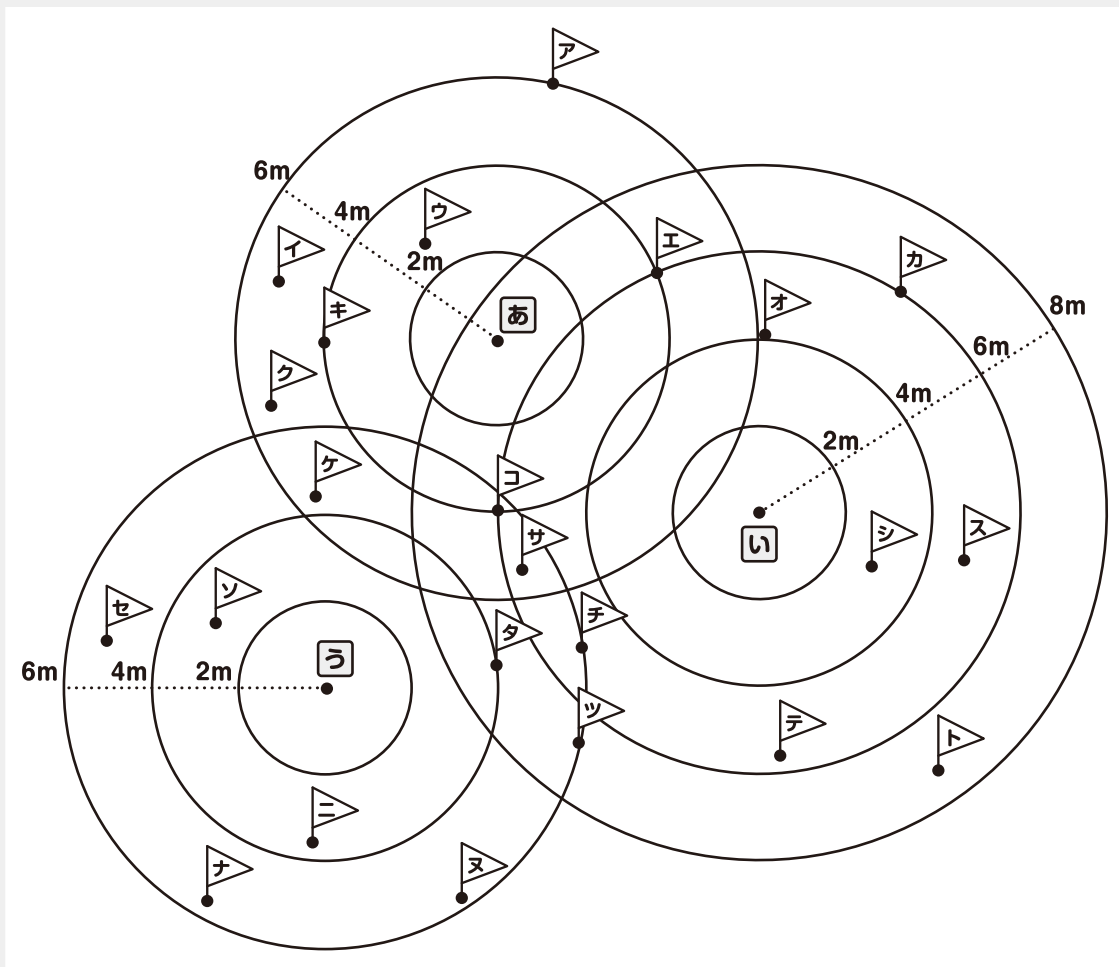
- ①  は **あ** から ちょうど 4m はなれています。
- ②  は **い** から ちょうど 6m はなれています。
- ③  は **う** から 6mより とおくに あります。






 ^{えん} 円の まわりの ^{うえ} せんの上は、どこでも  から ちょうど 2m はなれているよ。







「たからの ちず」



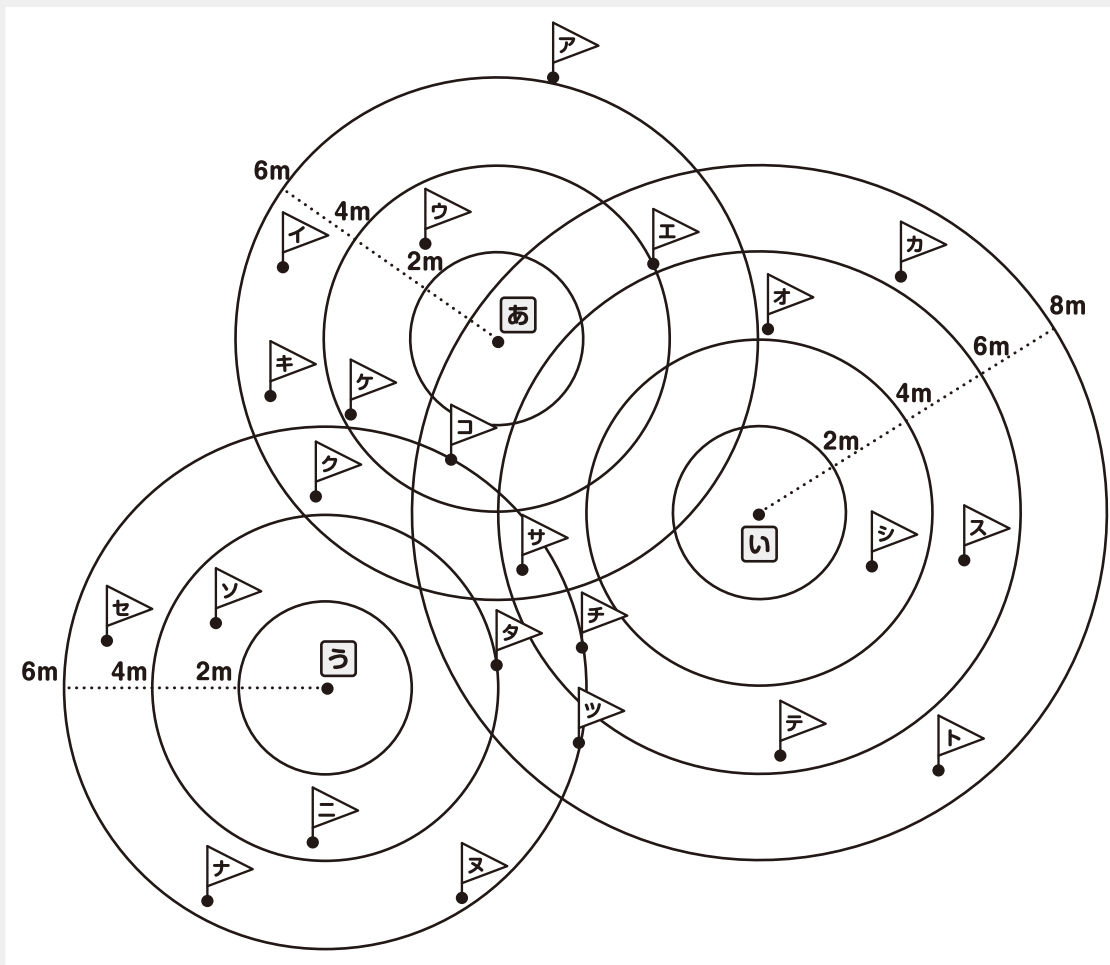
 が あるのは

(3) くびかざり()が うまっている  を 見つけて、その  の きごうを 書きましょう。

- ①  は **あ** から 6mより とおくに あります。
- ②  は **い** から 6mより とおくに ありますが、8mは はなれていません。
- ③  は **う** から ちょうど 6m はなれています。

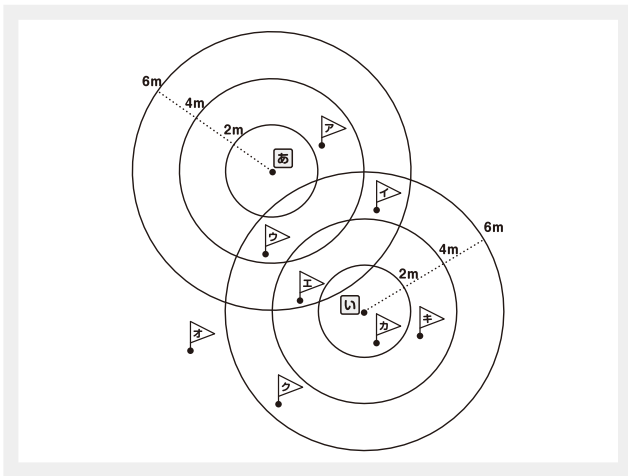


「たからの ちず」



 が あるのは 

(1)




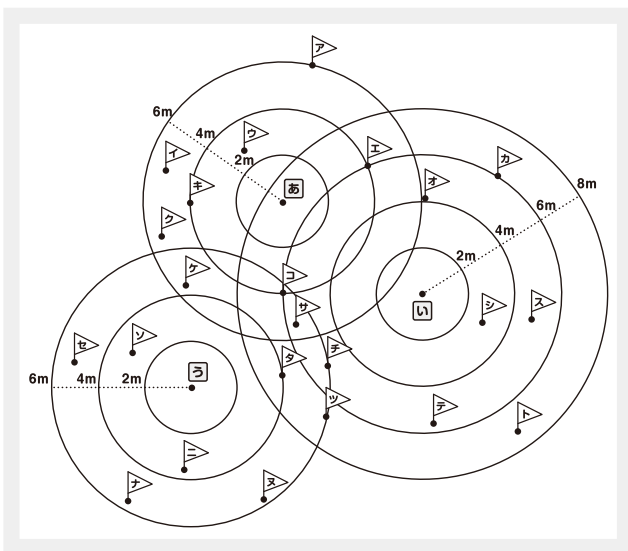
できたかな?



が あるのは

ク

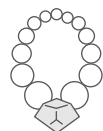

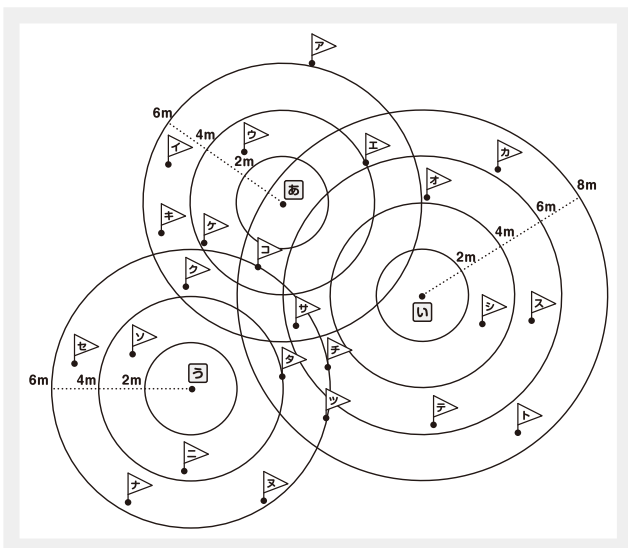
(2)



が あるのは

エ

(3)



が あるのは

オ