



しょうがく ねんせい  
小学1~3年生の  
さん すう おう こく  
**算数パズル王国** ジュニア

だい かい  
第37回 バレンタインの ようい

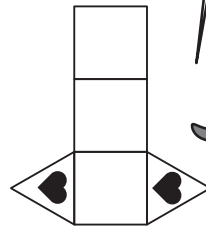
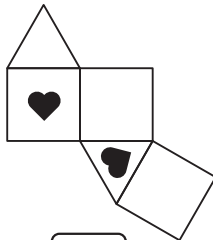
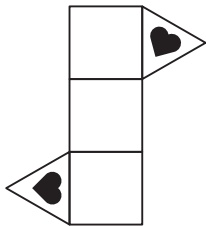


バレンタインの チョコを 入れる はこを つくっています。  
はこは どれも とうめいで、♥の もようが ついています。



**れい** くみたてた ときに、<sup>した</sup>下のような できあがりの かたちになるのは  
どれかな。あてはまる □に ○を かきましょう。



できあがり



♥が むかいあった ところに  
ないから だめだよ。



くみたてた ときに、  
♥が おなじ むきに ならないから  
だめだよ。

おうさま

# 王様がらひとこと

今回は、バレンタインのチョコを入れる箱の展開図を考えます。組み立てる様子をイメージするとき、箱の底がどこになるかを考えるとわかりやすいでしょう。

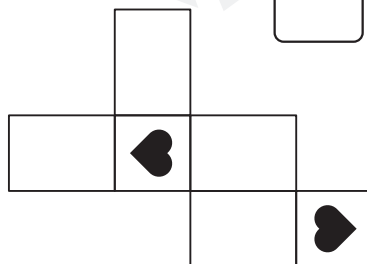
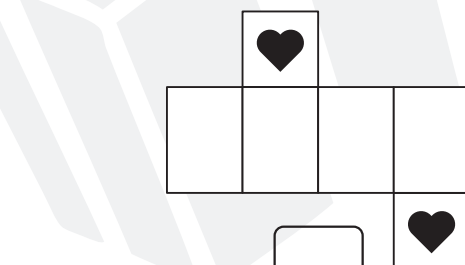
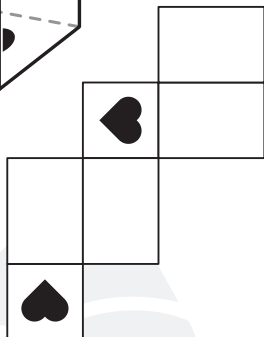
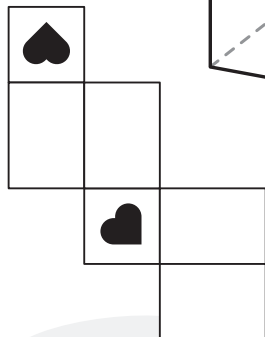
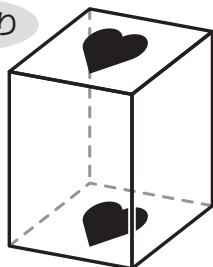


## もんだい **1**

くみたてたときに、下のよう<sup>した</sup>なできあがりのかたちになるのはどれかな。あてはまる□に○をかきましょう。



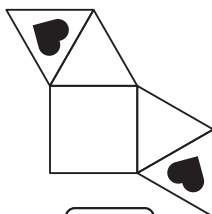



(1)

できあがり



(2)

できあがり



もんだい  2


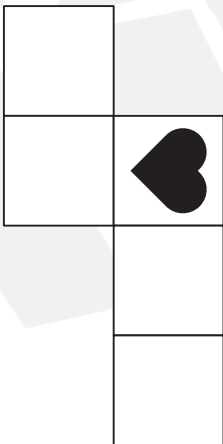


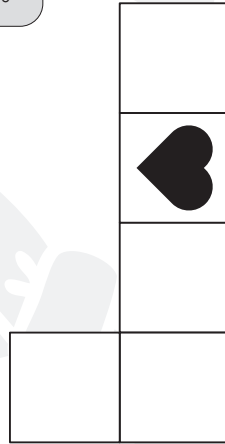

くみたてた ときに、まわりの ♥が 2まい むかいあって、  
おなじ むきになるような ふたの ない はこをつくれます。

(1)あてはまる □に ♥を かきましょう。


できあがり



はこには ふたが ないよ。




くみたてた ときに、はこの  
そこに なるのは どの □かな。


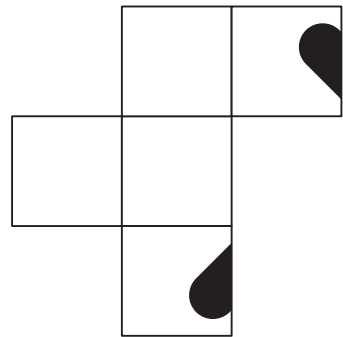


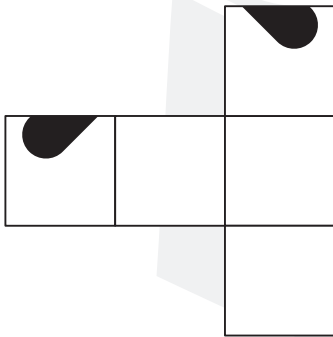
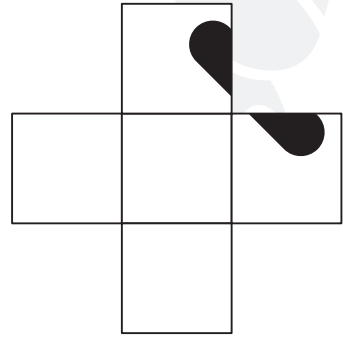


(2)あてはまる □に ♥と ♣を かきましょう。


できあがり



はこの かどに ♥が くるね。



こたえは  
次のページに  
あるよ!  
できたかな。





さあ こたえあわせを しよう。

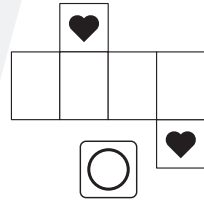
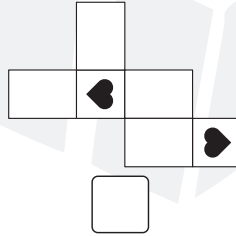
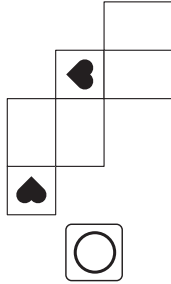
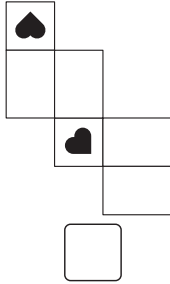
(※もんだいは 74~77ページに あるよ。)

できたかな?

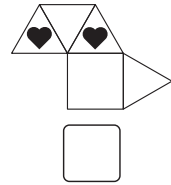
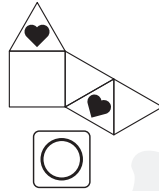
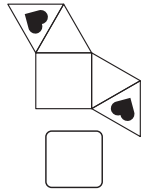
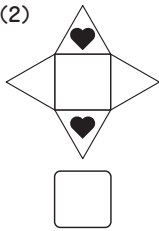


### もんだい 1

(1)




(2)



### もんだい 2

くみたてた ときに が はこの そこに なります。

(1)



(2)

