

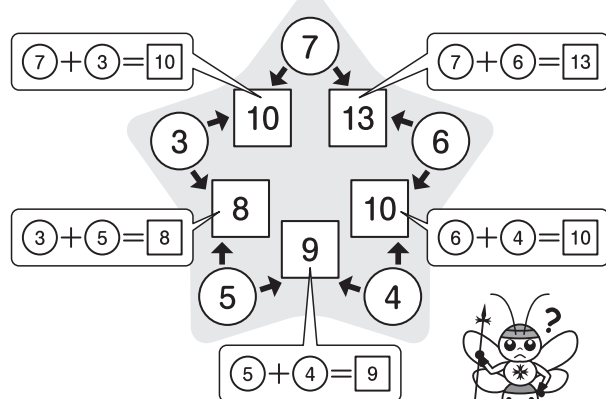
算数大好き小学生の 算数パズル王国

第79回 スターパズル

ルールにしたがって、○と□に当てはまる数を入れましょう。

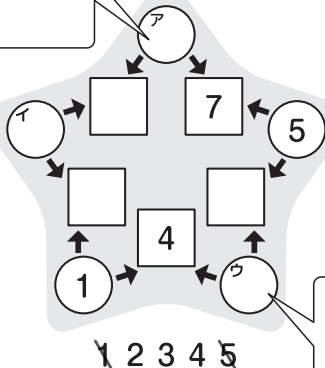
ルール

- ① 5つの○のなかに、たとえば1、2、3、4、5のような連続する5つの数を入れます。
- ② となりあう○に入る2つの数の合計を、○と○の間の□に書きます。

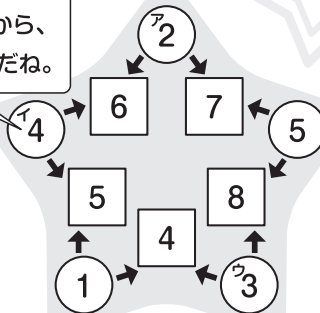


れい ○に1から5までの数を入れます。


ア + 5 = 7 だから、アは2だね。



1、2、3、5の場所がわかったから、イは残りの4だね。




1 + ウ = 4 だから、ウは3だね。



おうさま 王様からひらこ

今回は、数入れパズルです。連続する5つの数では、最大の数と最小の数の差は4になります。また、□に入る数の合計は、○に入る数の合計の2倍になることを確かめましょう。



ヒント

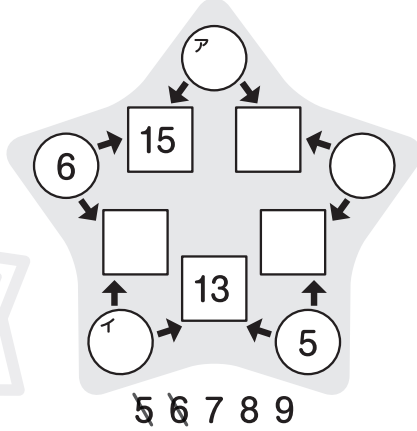
もんだい

ホップ(1)では、ア、イに入る数から考えましょう。
 ステップ(1)では、アとイの数の差が4になることを確認しましょう。
 ジャンプ(1)では、連続する5つの数の合計を考えましょう。


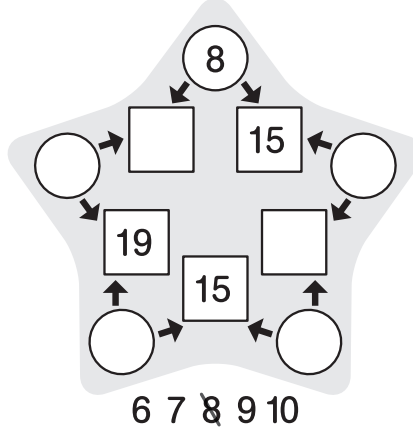
ルールはかんたん。
 家族の人たちも、
 いっしょにやってみてね。

ホップ
 対象学年
 1年~6年

(1) ○に5から9までの
 数を入れます。

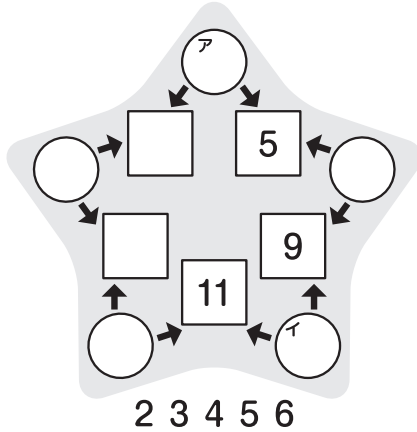


(2) ○に6から10までの
 数を入れます。

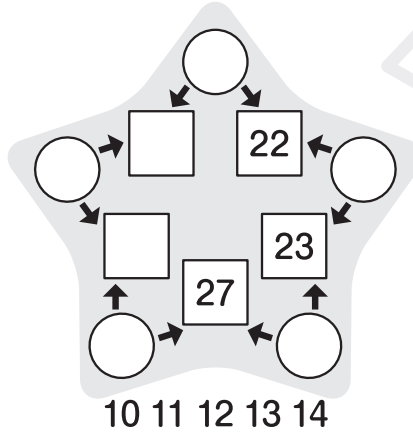


ステップ
 対象学年
 2年~6年

(1) ○に2から6までの
 数を入れます。



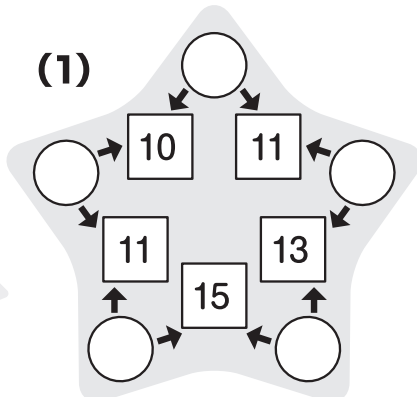
(2) ○に10から14までの
 数を入れます。



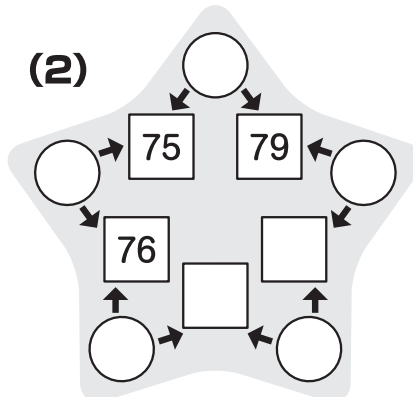
ジャンプ
 対象学年
 3年~6年

○に入れた数がわかりません。

(1)



(2)

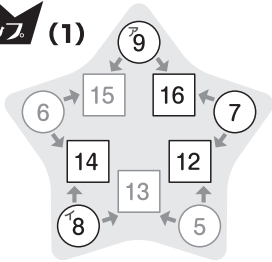


算数パズル王国

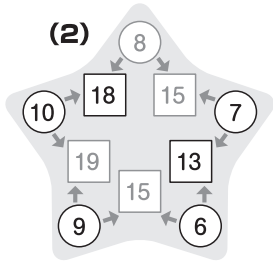
答え

さあ 答え合わせを しよう。

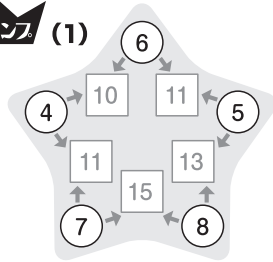
ホップ (1)



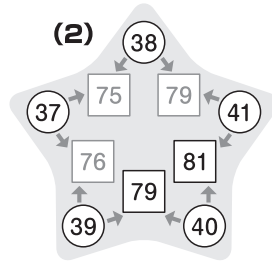
(2)



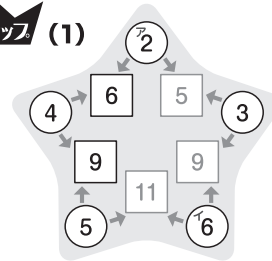
ジャン (1)



(2)



ステップ (1)



(2)

