

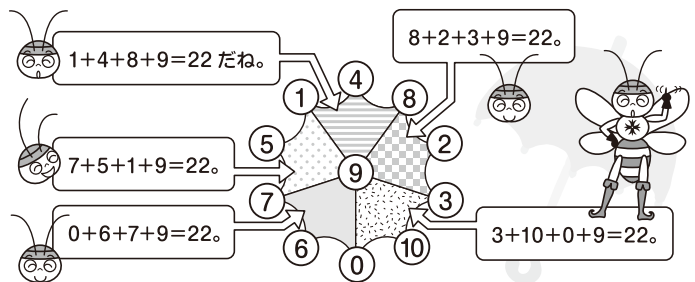
さんすうだいすしょうがくせい
算数大好き小学生の
さんすうおうちこく
算数パズル王国

だい185かい
第185回 パラソルパズル

ルールに したがって、○に 当てはまる 数を書きましょう。

ルール

- には、0~10の 数を 1つずつ 入れます。
- 5つの 傘に それぞれ 4つ ある ○の 数の 合計が、どれも 同じに なるように します。



れい の 合計を どれも 16に しましょう。

Aを見るよ。
1+ア+10+0=16だね。
だから、アは 5だよ。

0, 1, 2, 3, 4, 5, 6, 7, 8, 9, 10

Eを見るよ。
カ+キ+1+0=16だから、カ+キ=15だね。
残った 数で 当てはまるのは、7+8だけだね。
カと キは どちらかが 7で、どちらかが 8。

0, 1, 2, 3, 4, 5, 6, 7, 8, 9, 10

Bを見るよ。
10+イ+ウ+0=16だから、イ+ウ=6だね。
1と 5は もう 使っているから、
当てはまるのは、2+4だけだね。
イと ウは どちらかが 2で、
どちらかが 4。

0, 1, 2, 3, 4, 5, 6, 7, 8, 9, 10

Cを見るよ。
残った 数は 3と 9だから、イ+オ=12。
ウ=4と 決まるね。イ=2だね。

Dを見るよ。
オ+6+カ+0=16だから、オ+カ=10。
オ=3、カ=7が 当てはまるね。イ=9、キ=8だね。

0, 1, 2, 3, 4, 5, 6, 7, 8, 9, 10

え

0, 1, 2, 3, 4, 5, 6, 7, 8, 9, 10

おうさま
王様からひとこと

今回は、数入れパズルにチャレンジしましょう。となり合う 傘では、2つの○を 共有するので、残りの2つの○に入る数の合計が等しくなります。



もんだい

ヒント

ホップ(1)では、10と3、3と9、9と2に はさまれた ○に 入る 数が わかります。

ステップ(1)では、合計を 大きく するためには、どの 数を 真ん中の ○に 入れれば いいか 考えましょう。

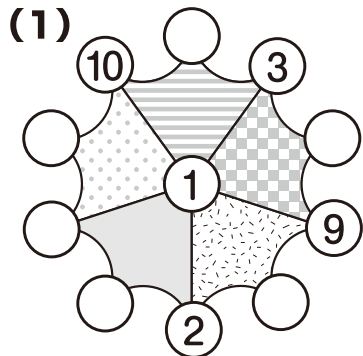
ジャンプ(1)では、☆の ついた ○に 入る 2つの 数の 差から 考えましょう。

ルールは かんたん。
家族の 人たちも、
いっしょに やってみてね。

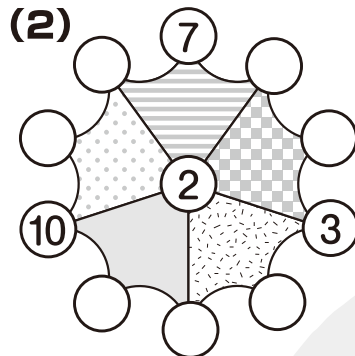
ホップ

対象学年
1年~6年

の 合計を 18に しましょう。



0, 1, 2, 3, 4, 5, 6, 7, 8, 9, 10



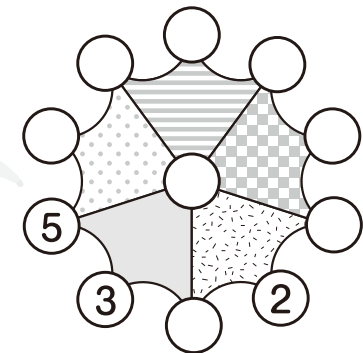
0, 1, 2, 3, 4, 5, 6, 7, 8, 9, 10



ステップ

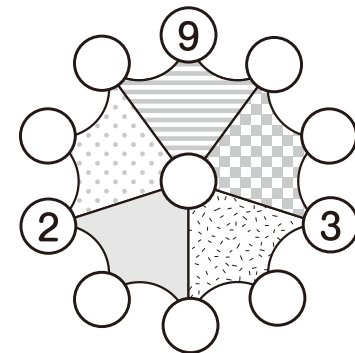
対象学年
2年~6年

(1) の 合計を いちばん 大きく しましょう。



0, 1, 2, 3, 4, 5, 6, 7, 8, 9, 10

(2) の 合計を いちばん 小さく しましょう。

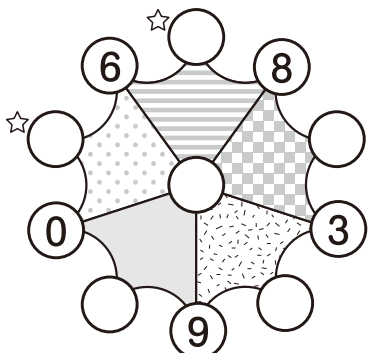


0, 1, 2, 3, 4, 5, 6, 7, 8, 9, 10

ジャンプ

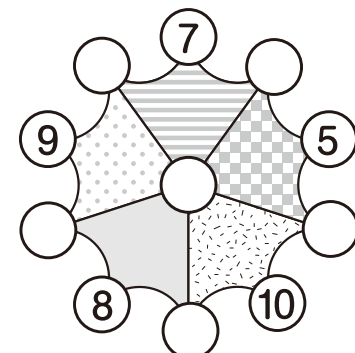
対象学年
3年~6年

(1) ☆ の 合計を 17に しましょう。




0, 1, 2, 3, 4, 5, 6, 7, 8, 9, 10

(2) ☆ の 合計を 16に しましょう。

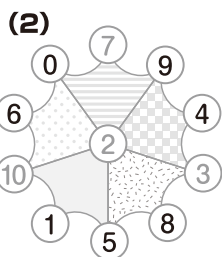
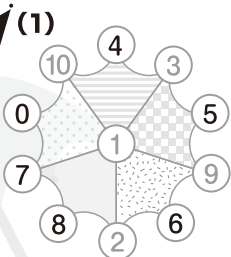


0, 1, 2, 3, 4, 5, 6, 7, 8, 9, 10

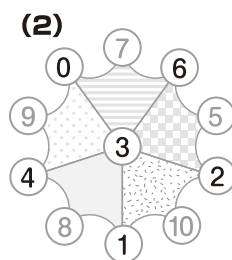
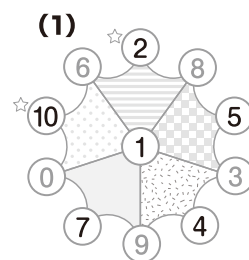


算数パズル王国 **答え** さあ 答え合わせを しよう。

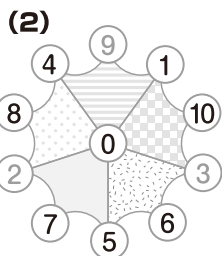
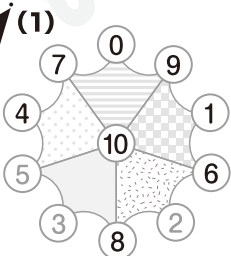
ホップ



ジャンプ



ステップ



できたかな?

