

# 小学1~3年生の 算数パズル王国 ジュニア

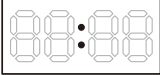

## 第188回 かがみに うつった 時計

王さまは朝、顔をあらっているときに、ふとかがみにうつった時計を見て、写真をとろうと思いましたが、じっさいにおしろのあちこちで、かがみにうつった時計の写真をとって歩きました。おしろのデジタル時計はすべて24時制です。

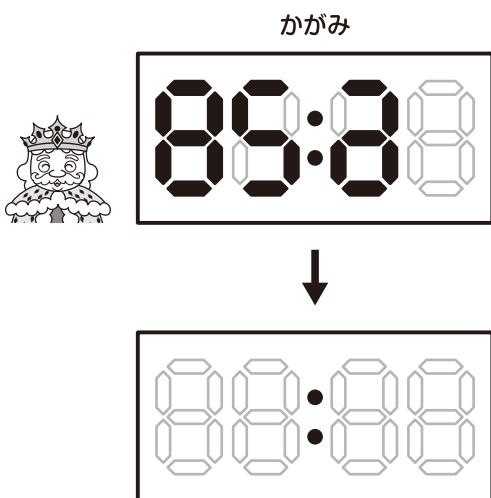
### 数字の あらわしかた




デジタル数字の かたちは、このよう になるよ。0分、1分、2分、…、9分のときは、それぞれ 00、01、02、…、09と なるよ。

**もんだい 1** かがみに うつった 時計を 見ました。それぞれ 何時何分を あらわしているのかな。  の 当てはまる  を ぬりましょう。


### れい



8 は かがみに うつつても かわらない 数字ね。



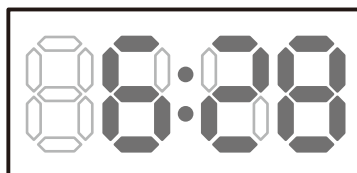
8 は 5に 見えるけど、 かがみに うつつているから 2だね。



時刻は 6時28分ね。 この 時計は 06:とは ならないよ。



こたえ



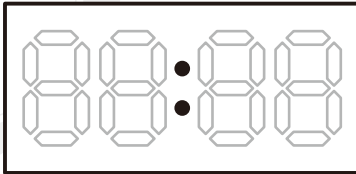
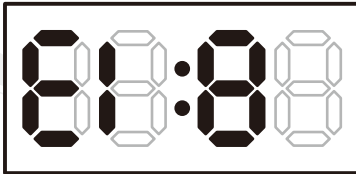
おうさま  
王様からひとこと

今回は、鏡にうつった時計に関する問題です。デジタル時計では、鏡にうつっても変わらない数字があることに注意しましょう。



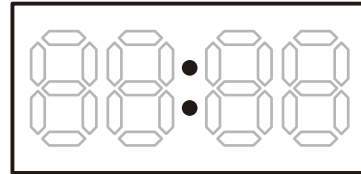
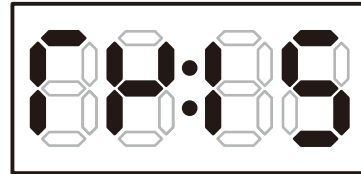
(1)

かがみ



(2)

かがみ



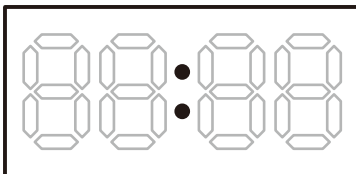
もんだい 2

それぞれの時計は、かがみにはどううつっているのかな。 の当てはまる をぬりましょう。


(1)



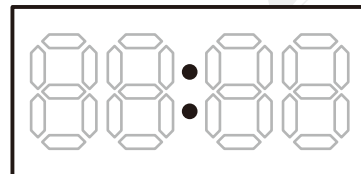
かがみ



(2)



かがみ



もんだい 3



は あ～きの それぞれで、かがみに

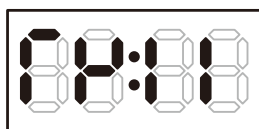
うつった 時計の 写真を とりました。 時 分 に 当てはまる

時刻を 書きましょう。また、時計の あらわす 時刻から 考えて、

の 進み方を —— で かきましよう。

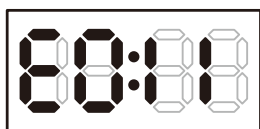
(1)

あ ダイニングルーム



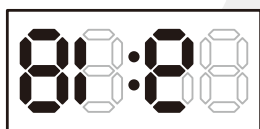
時 分

い 地下の 倉庫



時 分

う 図書室



時 分

え かがみの 間



時 分

お 塔



8 時 分

か おおひろま 大広間



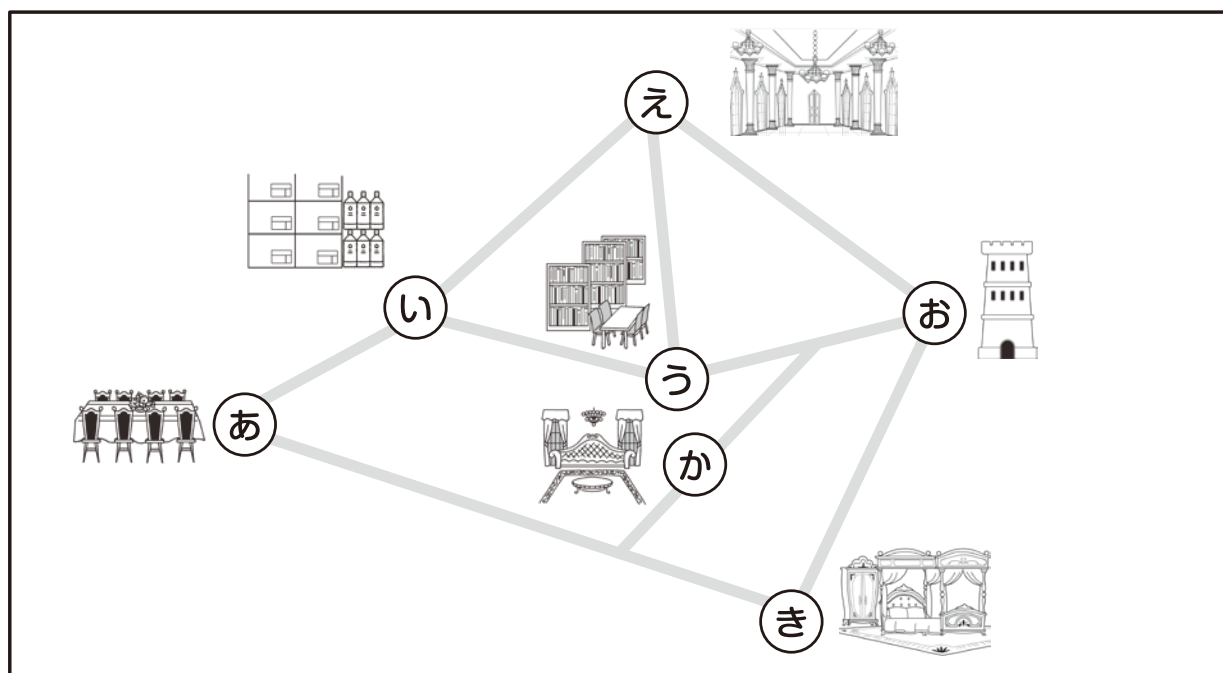

13 時 分

き おうさまの 部屋



時 分

おな みち かい  
同じ 道を 2回  
とお  
通っては いけないよ。



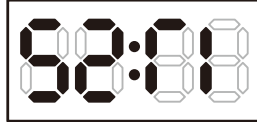
(2)

あ ダイニングルーム



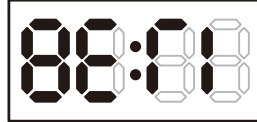
時 分

い 地下の 倉庫



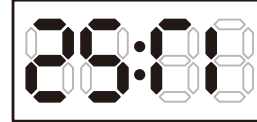
時 分

う 図書室



時 分

え かがみの 間



時 分

お 塔



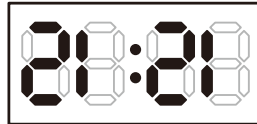
16 時 分

か 大広間



14 時 分

き 王さまの 部屋



時 分

