

たの 楽しく かんが 考える

さん すう たん てい だん

# 算数パズル探偵団

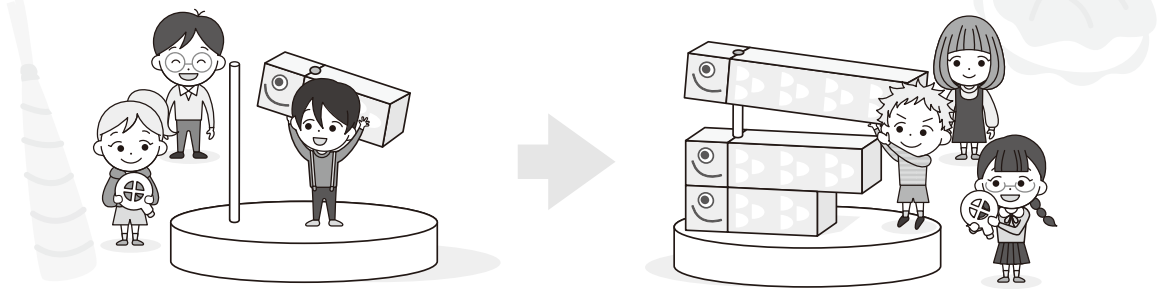
こいのぼりを つくろう

探偵団のメンバーは、つみきを つかって こいのぼりを つくれます。

## ルール

- ① 下のよう な 大きさの ちがう 4しゅるいの つみきが あります。
- ② 3しゅるいの つみきを えらんで、小さい つみきから だんだん 大きくなるように ぼうに さしていきます。
- ③ 「つかう つみき」に ある ぜんぶの つみきを ぼうに さします。

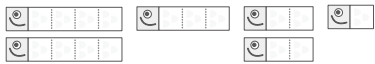
つみき 



## れい

下の 6この つみきを つかって、こいのぼりを 2つ つくれます。どのようにつみきを させば いいのかな。当てはまる  を ぬりましょう。

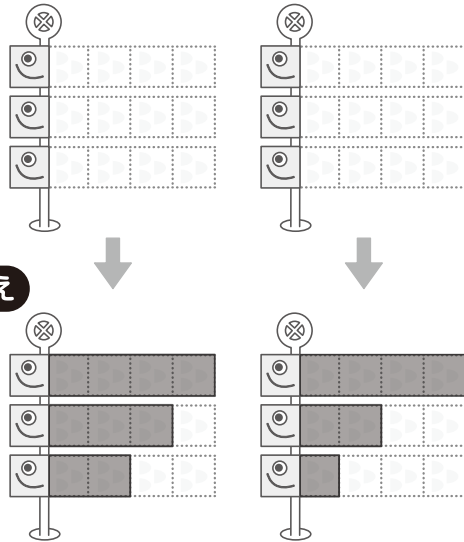
つかう つみき



2こずつ ある つみきは それぞれ べつの ぼうに さすんだね。



こたえ



こたえの こいのぼりは、みぎとひだりが ぎゃくでも いいよ。




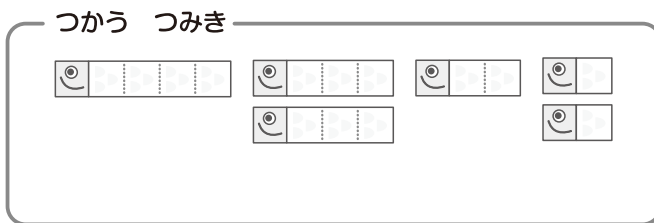
こいのぼりの顔のうしろに □ が 1こ つながっている つみきは  
いちばん 下に、4こ つながっている つみきは いちばん 上になるよ。



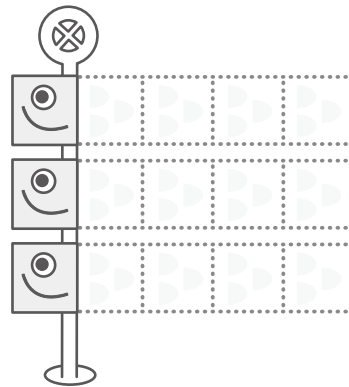
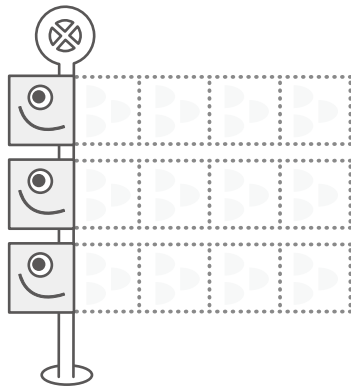
まさと先輩

## もんだい①

下の 6この つみきを つかって、こいのぼりを 2つ つくります。  
どのように つみきを させば いいのかな。当てはまる □ を  
ぬりましょう。



ミャーブル



ななみさん

まずは 長い つみきを  
いちばん 上に  
おいてみよう。



あきらさん

おな 同じ つみきが 2こ  
あるときは、べつの  
ぼうに さそうね。


もんだい②

下の 9この つみきを つかって、このぼりを 3つ つくります。  
 どのように つみきを させば いいのかな。当てはまる □ を  
 ぬりましょう。

(1) つかう つみき



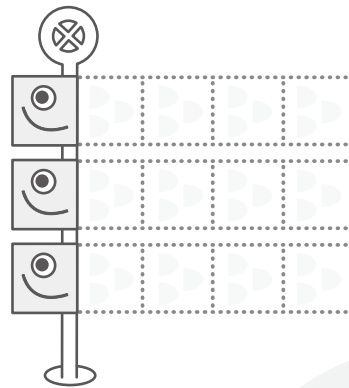
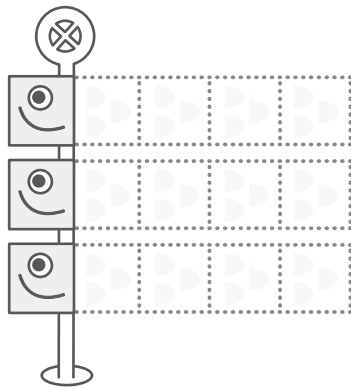
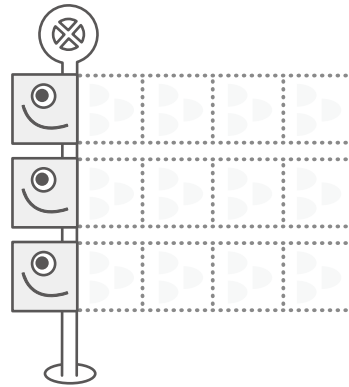
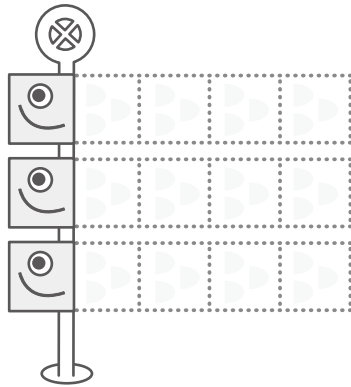
(2) つかう つみき



**もんだい③**

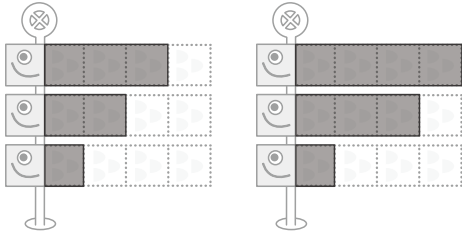
下の 12この つみきを つかって、このぼりを 4つ つくります。  
 どのように つみきを させば いいのかな。当てはまる □ を  
 ぬりましょう。

つかう つみき

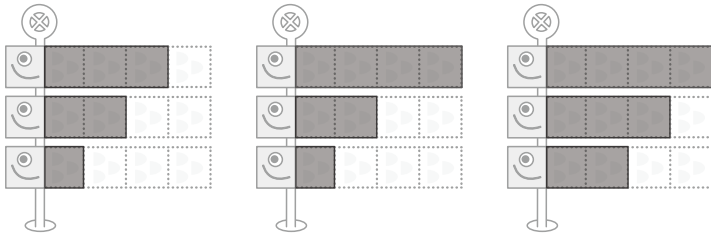
ぼうに さした こたえの こいのぼりは、ちがう じゅんばんでも かまいません。

もんだい ①

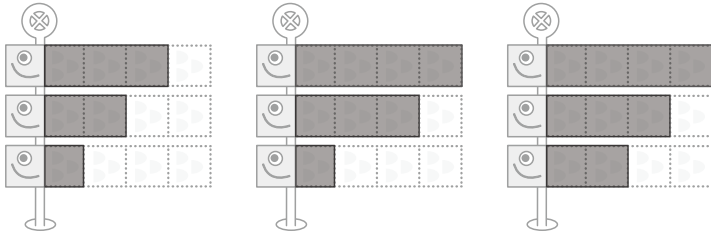


もんだい ②

(1)



(2)



もんだい ③

