

算数が好きになる

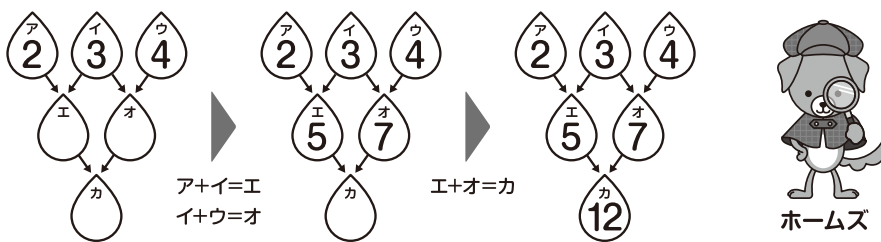
パズル探偵団

雨だれパズル

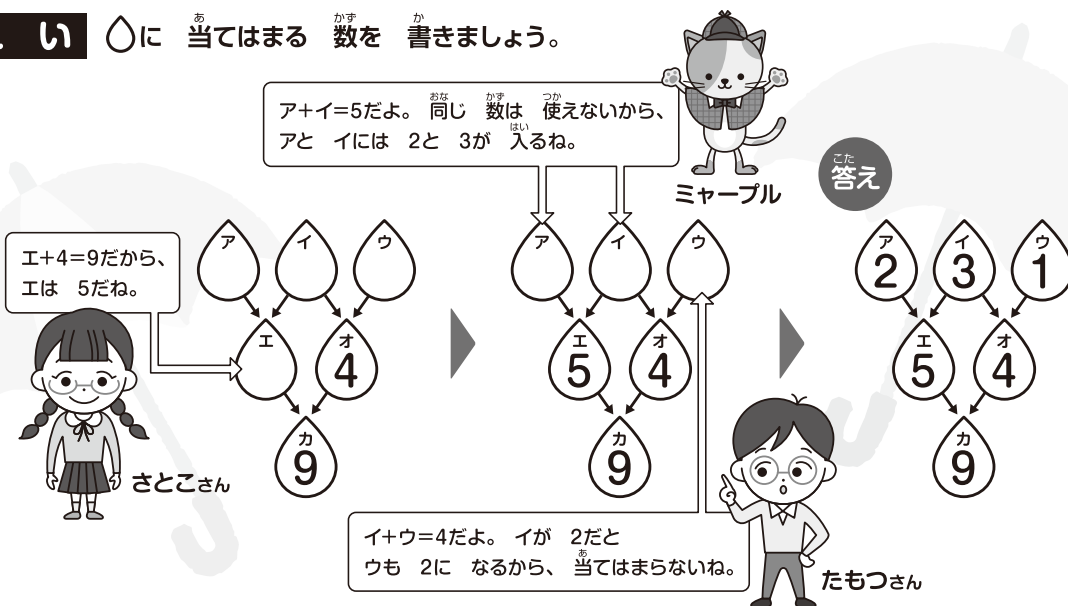
探偵団の さとこさんと たもつさんは、たしざんの 組み合わせを 考える パズルに 取り組んでいます。ルールにしたがって、〇に 当てはまる 数を 書きましょう。

ルール

- ① 下の だんの 〇には、→で つながった すぐ 上の 2つの 数を 合わせた 数を入れます。
- ② 〇には、すべて ちがう 数が 入るように します。

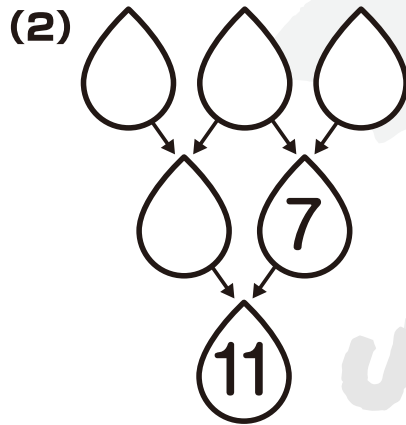
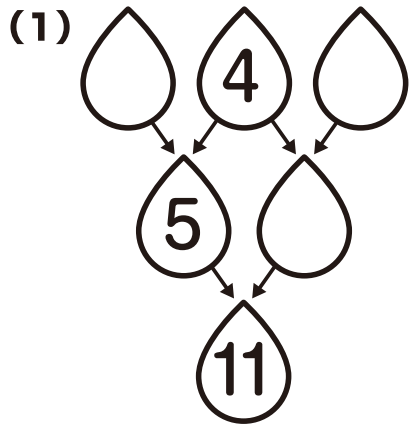


れい 〇に 当てはまる 数を 書きましょう。

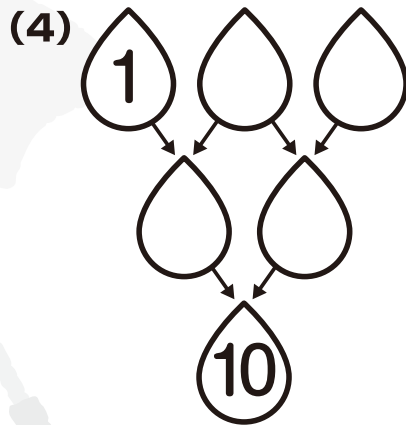
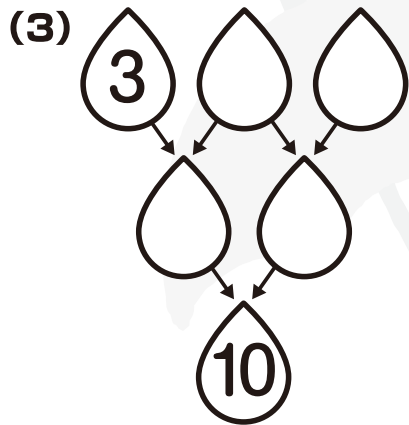


下の だんの 数を 2つの 数に 分けるとき、どんな 組み合わせが あるか 考えてみよう。


もんだい



れいと同じように
考えてみよう。

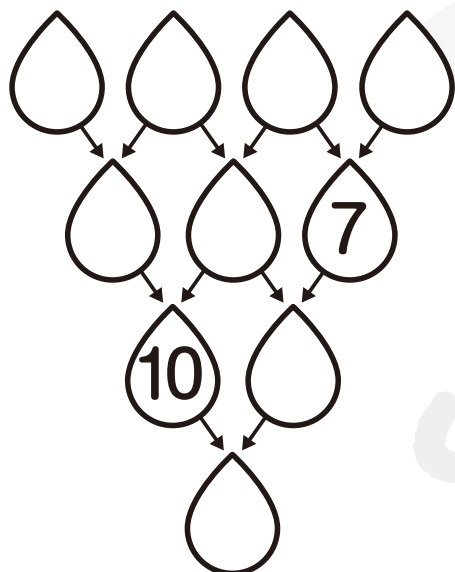


10のすぐ上の
2つのには、
どの数が入るかな？



やよい先輩

チャレンジ

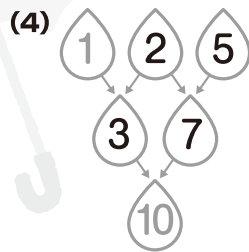
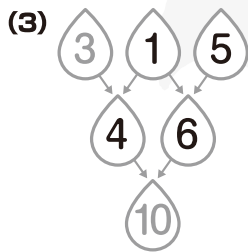
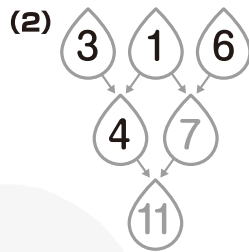
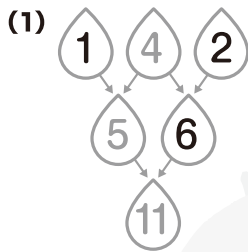


10のうえに入る2つの
数から考えてみよう。




算 数が好きになる **パズル探偵団**

さあ 答え合わせを しよう。



できたかな?



まさと先輩