

たの かんが
楽しく考える

さん すう たん てい だん
算数パズル探偵団

さくらんぼパズル

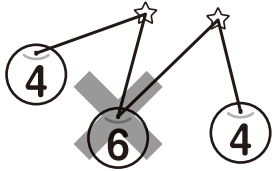
探偵団のメンバーは、さくらんぼパズルであそんでいます。○の中の数が合わせて10になるように、☆は2つの○と、■は3つの○と、それぞれまっすぐな線でつなぎましょう。

ルール

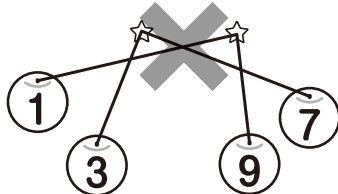
- ① さくらんぼ(○)の中にある●を、それぞれ☆か■とまっすぐな線でつなぎます。
- ② ☆は2つの○と、■は3つの○とつなぎます。
- ③ 1つの○は、1つの☆か■としかつなげません。
- ④ つないだあとの線と線がまじわってはいけません。
- ⑤ つないだあとの線がほかの○をよこぎってはいけません。

ただ **正しくない つなぎかた**

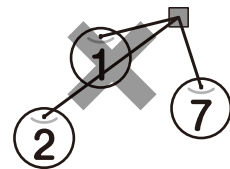
1つの○は、
1つの☆か■としか
つないではいけないよ。



つないだあとの
線と線がまじわっては
いけないよ。



つないだあとの線が
ほかの○をよこぎっては
いけないよ。



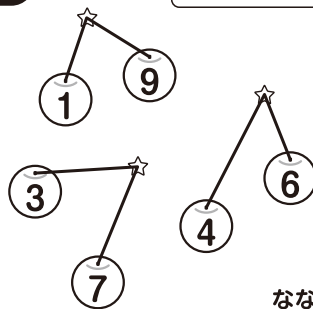
れい 1つの☆とつながる2つの○の中の数が
合わせて10になるように、☆と○をつなぎます。
じょうぎをつかって、まっすぐな線でつなぎましょう。

さくらんぼの
中のこの●を
☆とまっすぐな
線でつなぐよ。




こたえ

合わせて10になる
2つの○から
1つの☆につなぐよ。





こうけいが 10に なる 2つ または 3つの
数の 組み合わせを 見つけてね。




もんだい①

1つの ☆と つながる 2つの ○の 中の 数が 合わせて
10に なるように、☆と ○を つなぎます。じょうぎを
つかって、まっすぐな 線で つなぎましょう。

(1)



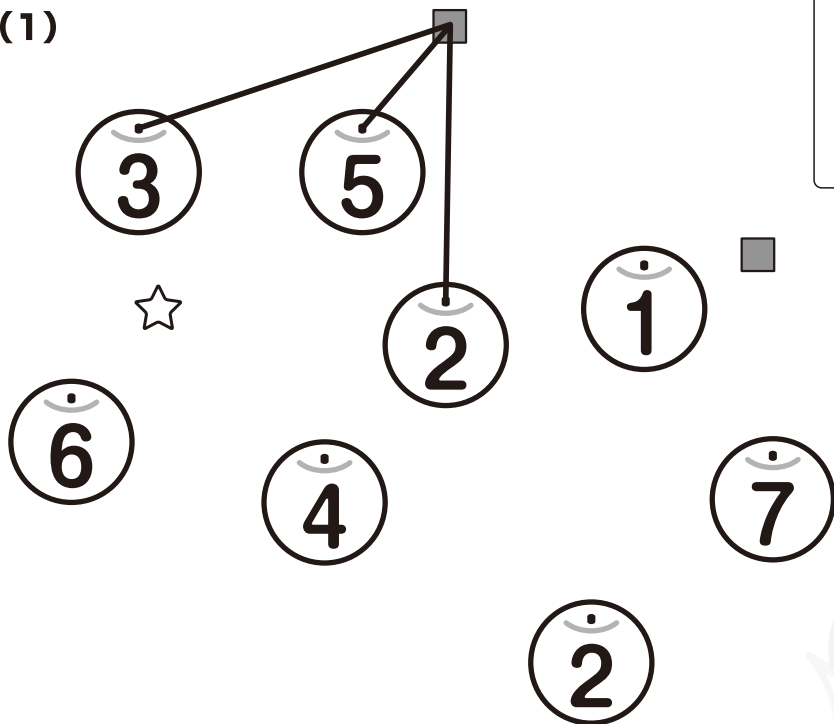
(2)




もんだい②

1つの ☆か ■と つながる いくつかの ○の 中の 数が
 合わせて 10に なるように します。☆は 2つの ○と、
 ■は 3つの ○と つなぎます。じょうぎを つかって、
 まっすぐな 線^{せん}で つなぎましょう。

(1)



3つで 10に なる
 数の 組み合わせには
 どんな ものが あるかな？
 まずは それを 考えよう。

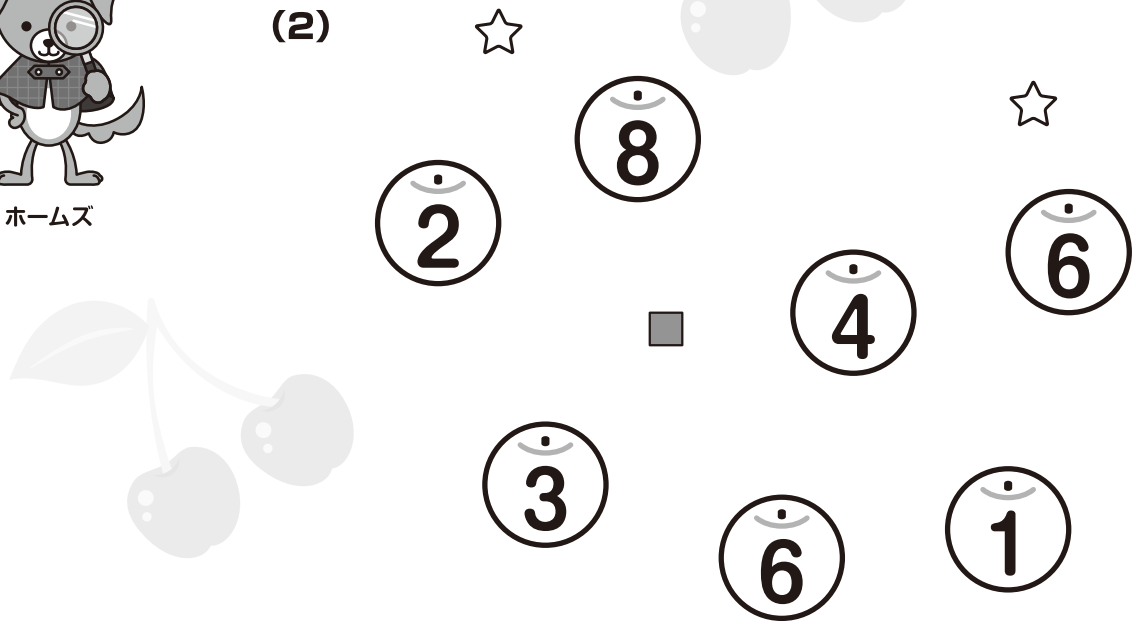


まさと先輩




ホームズ





(2)



(3)

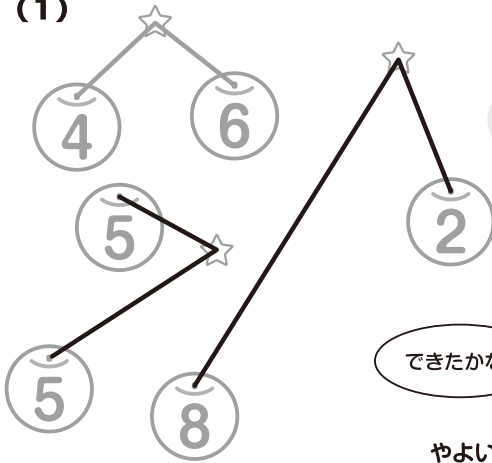


(4)

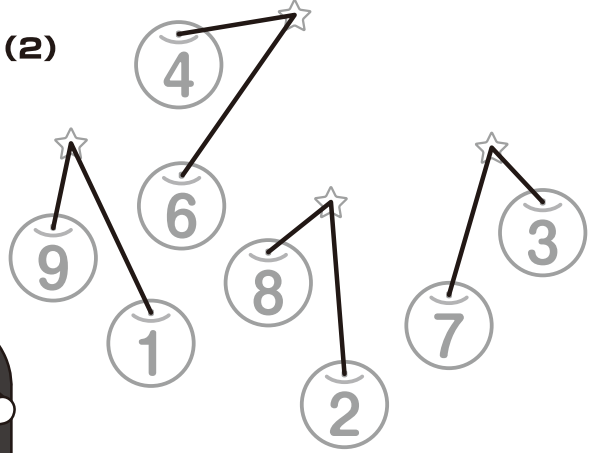


もんだい①

(1)



(2)

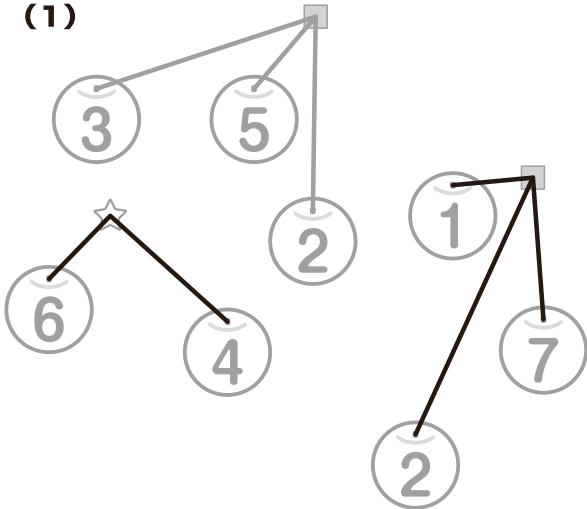


できたかな?

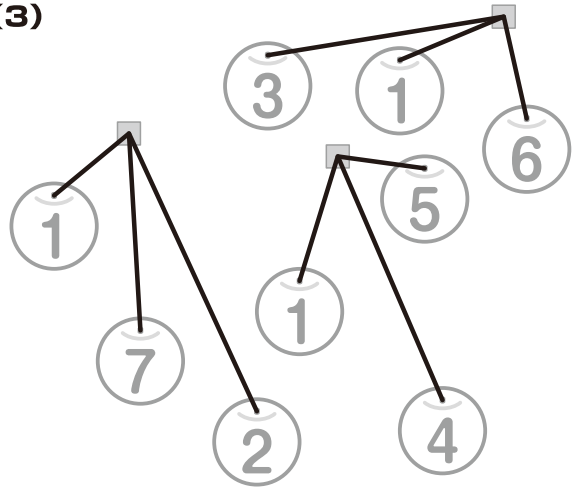
やよい先輩

もんだい②

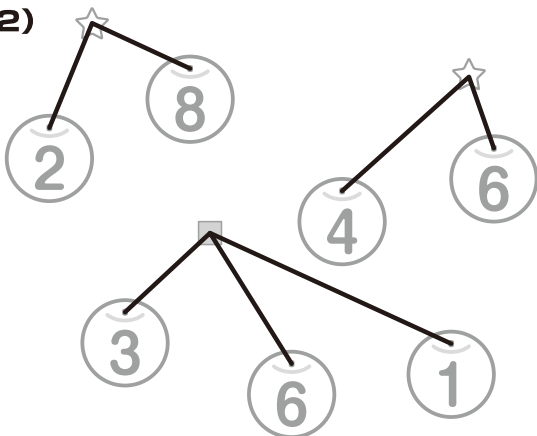
(1)



(3)



(2)



(4)

